

400 CÂU TRẮC NGHIỆM TỔNG HỢP HÓA 10

Cho biết khối lượng nguyên tử (theo u) của các nguyên tố:

H = 1; Li = 7; C = 12; N = 14; O = 16; Na = 23; Mg = 24; Al = 27; P = 31; S = 32; Cl = 35,5; K = 39; Ca = 40; Fe = 56; Cu = 64; Zn = 65; As = 75; Br = 80; Rb = 85,5; Ag = 108; Ba = 137, Cr=52, I=137.

Câu 1. Số oxi hoá của các nguyên tố Clo, lưu huỳnh, Cacbon trong các hợp chất sau: HCl, HClO₃, SO₂, SO₃, CO₂ lần lượt là:

- A. +1, +5, +4, +6, +4. B. -1, +5, +4, +6, +4. C. +1, +2, +3, +4, +5. D. +1, +3, +4, +5, +6.

Câu 2. Liên kết hoá học trong phân tử Cl₂ được hình thành:

- A. Sự xen phủ trực của 2 orbital S.
B. Sự xen phủ bên của 2 orbital p chứa e⁻ độc thân.
C. sự cho - nhận electron giữa 2 nguyên tử Clo.
D. Nhờ sự xen phủ trực của 2 orbital p electron độc thân.

Câu 3. Chất nào sau đây vừa có tính oxi hoá, vừa có tính khử?

- A. Cl₂. B. Ca. C. O₃. D. F₂.

Phần trắc nghiệm khách quan: chọn phương án trả lời A, B, C hoặc D tương ứng với nội dung câu hỏi:

Câu 4. Liên kết hóa học trong phân tử KCl là:

- A. Liên kết hiđro. B. Liên kết ion.
C. Liên kết cộng hóa trị không cực. D. Liên kết cộng hóa trị có cực.

Câu 5. Tính chất hoá học cơ bản của các nguyên tố thuộc nhóm halogen là:

- A. Tính oxi hoá mạnh. B. Tính nhường electron.
C. Cả tính oxi hoá, tính khử. D. Tính khử.

Câu 6. Cho phản ứng: $2\text{NH}_3 + 3\text{Cl}_2 \rightarrow \text{N}_2 + 6\text{HCl}$. Trong đó Cl₂ đóng vai trò.

- A. Chất khử. B. Vừa là chất oxi hoá vừa là chất khử.
C. Chất oxi hoá. D. Không phải là chất khử, không là chất oxi hoá.

Câu 7. Nguyên tố M có 7 electron hoá trị, biết M là phi kim thuộc chu kì 4. Cấu hình electron của nguyên tử M là:

- A. $1s^2 2s^2 2p^6 3s^2 3p^6 3d^{10} 4s^2 4p^5$. B. $1s^2 2s^2 2p^6 3s^2 3p^6 3d^5 4s^5$.
C. $1s^2 2s^2 2p^6 3s^2 3p^6 4s^2 4p^5$. D. $1s^2 2s^2 2p^6 3s^2 3p^6 4s^2 4p^2$.

Câu 8. Đốt nóng hỗn hợp chứa KClO₃ và MnO₂ theo tỉ lệ 4: 1 về khối lượng trên ngọn lửa đèn cồn, sau đó đưa tàn đóm còn hồng vào miệng ống nghiệm thì.

- A. Không hiện tượng. B. Tàn đóm bùng cháy. C. Tàn đóm tắt ngay. D. Có tiếng nổ lách tách.

Câu 9. Chọn câu trả lời đúng trong các câu sau: Trong một chu kì, theo chiều tăng của điện tích hạt nhân nguyên tử:

- A. Tính kim loại và tính phi kim giảm. B. Tính kim loại và tính phi kim tăng.
C. Tính kim loại tăng, tính phi kim giảm. D. Tính kim loại giảm, tính phi kim tăng.

Câu 10. Cho phản ứng hóa học sau: $\text{H}_2\text{O}_2 + 2\text{KI} \rightarrow \text{I}_2 + 2\text{KOH}$.

Câu nào diễn tả đúng nhất tính chất của các chất?

- A. H₂O₂ là chất khử. B. KI là chất OXH.
C. H₂O₂ là chất OXH. D. H₂O₂ vừa là chất OXH vừa là chất khử.

Câu 11. Tổng hệ số trong phản ứng: $\text{FeCl}_2 + \text{Cl}_2 \rightarrow \text{FeCl}_3$ là:

- A. 7. B. 8. C. 5. D. 6.

Câu 12. Thành phần nước Giaven gồm:

- A. NaCl, NaClO, Cl₂, H₂O. B. NaCl, H₂O. C. NaCl, NaClO₃, H₂O. D. NaCl, NaClO, H₂O.

Câu 13. Cho sơ đồ phản ứng sau: $a\text{Fe}_2\text{O}_3 + b\text{CO} \rightarrow c\text{Fe} + d\text{CO}_2$.

Hệ số a, b, c, d tương ứng là:

- A. 3, 4, 6, 4. B. 1, 4, 1, 5. C. 1, 3, 2, 3. D. 2, 3, 1, 3.

Câu 14. Số oxi hoá của Nitơ trong: NH₄⁺, NO₂, HNO₃ lần lượt là:

- A. +1, +4, +5. B. +3, +4, +5. C. -3, +4, +5. D. +4, -4, +5.

Câu 15. Để nhận biết O₃ và O₂ ta sử dụng hóa chất nào dưới đây:

- A. Cu. B. H₂. C. Cl₂. D. dd KI.

Câu 16. Chọn phát biểu đúng: trong một nhóm A, đi từ trên xuống thì:

- A. Tính bazơ của các oxit và hiđroxit mạnh dần, tính axit giảm dần.
B. Tính bazơ của các oxit và hiđroxit yếu dần, tính axit mạnh dần.
C. Tính bazơ tăng dần, đồng thời tính axit giảm dần.
D. Tính bazơ của các oxit và hiđroxit tương ứng mạnh dần, đồng thời tính axit mạnh dần.

Câu 17. Sục từ từ khí SO₂ đến dư vào dd Br₂ có màu vàng nhạt, hiện tượng xảy ra là

- A. màu dd đậm dần. B. xuất hiện vẩn đục màu vàng.
C. có kết tủa màu trắng. D. dd Br₂ nhạt màu dần rồi mất màu.

Câu 18. Trong các axit sau: CuO, Al₂O₃, SO₂. Hãy cho biết chất nào chỉ phản ứng được với dung dịch bazơ và chất nào cho phản ứng được với cả dung dịch axit và bazơ cho kết quả theo thứ tự trên.

- A. CuO, SO₂. B. SO₂, CuO. C. CuO, Al₂O₃. D. SO₂, Al₂O₃.

Câu 19. Anion X⁻ có cấu hình electron của phân lớp ngoài cùng là 3p⁶. Vị trí của X trong bảng tuần hoàn là:

- A. Chu kì 2, nhóm IVA. B. Chu kì 3, nhóm IVA. C. Chu kì 3, nhóm VIIA. D. Chu kì 3, nhóm IIA.

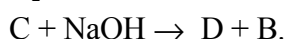
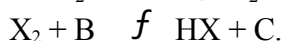
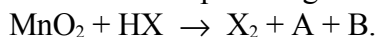
Câu 20. Phản ứng nào dưới đây, SO₂ thể hiện là chất oxyhoá.

- A. SO₂ + H₂O \xrightarrow{f} H₂SO₃. B. 5SO₂ + 2KMnO₄ + 2H₂O → K₂SO₄ + 2MnSO₄ + 2H₂SO₄.
C. SO₂ + 2H₂S → 3S + 2H₂O. D. SO₂ + Br₂ + 2H₂O → 2HBr + H₂SO₄.

Câu 21. Quy tắc bát tử không đúng với trường hợp phân tử chất nào dưới đây?

- A. H₂O. B. Cl₂. C. CO₂. D. NO₂.

Câu 22. Cho chuỗi phản ứng.



Xác định X, A, B, C, D biết X₂ ở thể khí ở thường.

- A. X₂ = Cl₂; A = MnCl₂; B = H₂O; C = HOCl; D = NaClO.
B. X₂ = F₂; A = MnF₂; B = H₂O; C = H₂; D = NaH.
C. X₂ = Br₂; A = MnBr₂; B = H₂O; C = HOBr; D = NaBrO.
D. X₂ = Cl₂; A = MnCl₂; B = H₂O; C = O₂; D = Na₂O.

Câu 23. Nguyên tử O trong phân tử H₂O lai hoá kiểu.

- A. không lai hoá. B. sp². C. sp. D. sp³.

Câu 24. A, B là 2 nguyên tố thuộc cùng nhóm A và ở 2 chu kì kế tiếp trong bảng tuần hoàn. Số đơn vị điện tích hạt nhân của A và B chênh lệch nhau là:

- A. 12. B. 6. C. 8. D. 10.

Câu 25. Trong phản ứng: Fe + 2HCl → FeCl₂ + H₂

Fe đóng vai trò:

- A. Là chất oxi hoá. B. Là chất khử.
C. Vừa là chất khử, vừa là chất oxi hoá. D. Không bị khử, không bị oxi hoá.

Câu 26. Khi nhỏ dung dịch H₂SO₄ đặc vào đường thì đường chuyển sang màu đen, hiện tượng này là do tính chất nào sau đây của H₂SO₄ đ?

- A. Tính khử. B. Tính OXH mạnh. C. Tính axit. D. Tính háo nước.

Câu 27. Oxit cao nhất của nguyên tố R là R₂O₅, trong hợp chất với hiđro R chiếm 82,35% về khối lượng. Nguyên tố R là:

- A. S. B. As. C. P. D. N.

Câu 28. Khí hiđro clorua được điều chế bằng cách nào sau đây:

- A. Dung dịch Natriclorua và dung dịch axit H₂SO₄ loãng.
B. Natriclorua tinh thể và axit H₂SO₄ loãng.
C. Natriclorua tinh thể và axit H₂SO₄ đặc.
D. Dung dịch Natriclorua và axit H₂SO₄ đặc.

Câu 29. Trong những câu dưới đây, câu nào sai?

A. Trong một chu kì, theo chiều tăng dần của điện tích hạt nhân: tính kim loại của các nguyên tố giảm, tính phi kim tăng.

B. Trong một nhóm theo chiều tăng của điện tích hạt nhân, tính kim loại của các nguyên tố tăng, tính phi kim giảm.

C. Trong một chu kì, theo chiều tăng của điện tích hạt nhân, tính kim loại của các nguyên tố tăng, tính phi kim giảm.

D. Trong một nhóm, theo chiều tăng của điện tích hạt nhân, hoá trị của các nguyên tố không đổi.

Câu 30. Nguyên tử N trong NH₃ lai hoá:

- A. sp³. B. sp². C. sp²d. D. sp.

Câu 31. Câu nào sau đây nói sai về oxi?

- A. oxi có tính oxi hoá mạnh hơn ozon.
B. trong công nghiệp oxi được sản xuất từ không khí và nước.
C. oxi ít tan trong nước.
D. oxi là phi kim hoạt động, có tính oxi hoá mạnh.

Câu 32. Theo qui tắc bát tử thì công thức cấu tạo của phân tử SO₂ là:

- A. O - S - O. B. O = S → O. C. O = S = O. D. O → S → O.

Câu 33. Ứng dụng nào sau đây không phải của ozon?

- A. Điều chế oxi trong phòng thí nghiệm. B. Khử trùng nước uống, khử mùi.
C. Tẩy trắng các loại dầu ăn. D. Chữa sâu răng, bảo quản hoa quả.

Câu 34. Tổng hệ số của PTPU (hệ số là các số nguyên, tối giản): $\text{Cu} + \text{H}_2\text{SO}_4 \text{ đ, nóng} \rightarrow \text{CuSO}_4 + \text{SO}_2 + \text{H}_2\text{O}$ là

- A. 6. B. 8. C. 7. D. 5.

Câu 35. Muối thu được khi cho Fe tác dụng với dung dịch axit HCl là:

- A. Không tác dụng. B. FeCl_2 và FeCl_3 . C. FeCl_2 . D. FeCl_3 .

Câu 36. Nguyên tố R có công thức oxit cao nhất là R_2O_3 . Công thức hợp chất khí của R với hiđrô là:

- A. RH_4 . B. RH_3 . C. RH_2 . D. RH_5 .

Câu 37. Chất nào sau đây không tác dụng với dd HCl?

- A. Fe. B. Cu. C. AgNO_3 . D. CaCO_3 .

Câu 38. Hãy axit nào sau đây được sắp xếp đúng theo thứ tự tính axit giảm dần.

- A. HF, HI, HBr, HCl. B. HCl, HI, HBr, HF. C. HI, HBr, HF, HCl. D. HI, HBr, HCl, HF.

Câu 39. Nguyên tử A có cấu hình electron: $1s^2 2s^2 2p^6 3s^2 3p^3$. Ion A^{3-} có cấu hình electron là:

- A. $1s^2 2s^2 2p^6 3s^2 3p^1$. B. $1s^2 2s^2 2p^6 3s^2 3p^4 s^2$. C. $1s^2 2s^2 2p^6 3s^2 3p^5$. D. $1s^2 2s^2 2p^6 3s^2 3p^6$.

Câu 40. Cộng hóa trị của Cacbon trong CH_4 là:

- A. 4. B. 2. C. 1. D. 3.

Câu 41. Bảng tuần hoàn có:

- A. 4 chu kì nhỏ; 4 chu kì lớn. B. 3 chu kì nhỏ; 4 chu kì lớn.
C. 4 chu kì nhỏ; 3 chu kì lớn. D. 4 chu kì nhỏ; 4 chu kì lớn.

Câu 42. chất nào sau đây vừa có tính oxi hoá, vừa có tính khử?

- A. Ca. B. O_3 . C. Cl_2 . D. F_2 .

Câu 43. Nguyên tố có $Z = 19$ thuộc chu kì:

- A. 3. B. 5. C. 2. D. 4.

Câu 44. Clo đóng vai trò gì trong phản ứng sau: $2\text{NaOH} + \text{Cl}_2 \rightarrow \text{NaCl} + \text{NaClO} + \text{H}_2\text{O}$.

- A. Chỉ là chất oxi hoá. B. Chỉ là chất khử.
C. Vừa là chất oxi hoá, vừa là chất khử. D. Không là chất oxi hoá, không là chất khử.

Câu 45. pưhh nào không đúng?

- A. $\text{NaCl} + \text{H}_2\text{SO}_4 \text{ dd} \rightarrow \text{NaHSO}_4 + \text{HCl}$. B. $2\text{NaCl} + \text{H}_2\text{SO}_4 \text{ dd} \rightarrow \text{Na}_2\text{SO}_4 + 2\text{HCl}$.
C. $2\text{NaCl} + \text{H}_2\text{SO}_4 \text{ dd} \rightarrow \text{Na}_2\text{SO}_4 + 2\text{HCl}$. D. $\text{H}_2 + \text{Cl}_2 \rightarrow 2\text{HCl}$.

Câu 46. Nguyên tố có $Z = 22$ thuộc chu kì:

- A. 5. B. 3. C. 4. D. 2.

Câu 47. Cấu hình electron lớp ngoài cùng của các nguyên tố nhóm halogen là:

- A. $ns^2 np^5$. B. $ns^2 np^6$. C. $ns^2 np^3$. D. $ns^2 np^4$.

Câu 48. Nguyên tố có $Z = 18$ thuộc loại:

- A. Kim loại. B. Phi kim. C. Khí hiếm. D. á kim.

Câu 49. Hợp chất khí với hiđro của nguyên tố M là MH_3 . Công thức oxit cao nhất của M là:

- A. M_2O . B. M_2O_5 . C. MO_3 . D. M_2O_3 .

Câu 50. Nguyên tố X thuộc nhóm VIA, công thức oxit cao nhất của nguyên tố X là:

- A. XO . B. XO_3 . C. XO_2 . D. X_2O .

Câu 51. Phương pháp duy nhất để điều chế Flo là

- A. Cho dd HF tác dụng với MnO_2 . B. Điện phân hỗn hợp NaF và NaCl.
C. Điện phân hỗn hợp KF và HF. D. Cho Cl_2 tác dụng với NaF.

Câu 52. Kết luận nào sau đây là đúng đối với O_2 ?

- A. Oxi là nguyên tố có tính oxihoa yếu nhất nhóm VIA.
B. Tính chất cơ bản của oxi là tính khử mạnh.
C. Phân tử khối của khí oxi là 16.
D. Liên kết trong phân tử oxi là liên kết cộng hoá trị không cực.

Câu 53. Cation R^+ có cấu hình electron của phân lớp ngoài cùng $2p^6$. Vị trí R trong bảng tuần hoàn là:

- A. Chu kì 3, nhóm VIA. B. Chu kì 3, nhóm IA. C. Chu kì 2, nhóm VIIIA. D. Chu kì 2, nhóm VIIA.

Câu 54. Chu kì 3 có bao nhiêu nguyên tố?

- A. 18. B. 8. C. 2. D. 32.

Câu 55. Số electron lớp ngoài cùng của nguyên tử S ($Z = 16$) là:

- A. 6. B. 3. C. 4. D. 1.

Câu 56. Nguyên tố X ở chu kì 3, nhóm IIIA, cấu hình electron nguyên tử của nguyên tố X là:

- A. $1s^2 2s^2 2p^3$. B. $1s^2 2s^2 2p^6 3s^2 3p^1$. C. $1s^2 2s^2 2p^5$. D. $1s^2 2s^2 2p^6 3s^2 3p^3$.

Câu 57. Số oxi hoá của Mn trong: Mn; $MnCl_2$; MnO_4^{2-} lần lượt là:

- A. +2; +3; +4. B. +3; +1; +7. C. 0; +2; +6. D. 2; +2; -5.

Câu 58. Chu kì 3 có bao nhiêu nguyên tố?

- A. 32. B. 8. C. 2. D. 18.

Câu 59. Trong hợp chất CaF_2 ; Ca có điện hóa trị là:

- A. 2. B. -2. C. +2. D. 2+.

Câu 60. Những chất nào sau đây được dùng để điều chế Clo trong phòng thí nghiệm.

- A. NaCl, H_2SO_4 . B. NaCl, $BaCl_2$. C. KCl, MnO_2 . D. $KMnO_4$, MnO_2 .

Câu 61. O_2 không tác dụng với dãy kim loại nào dưới đây ở t^0 thường:

- A. Ag, Au, Pt. B. Al, Fe, Ag. C. Hg, Fe, Au. D. Cu, Au, Pt.

Câu 62. Không được dùng loại bình nào sau đây để đựng dung dịch HF?

- A. Bằng nhựa. B. Bằng sứ. C. Bằng thủy tinh. D. Bằng sành.

Câu 63. Hoà tan hoàn toàn hỗn hợp khí HBr và HCl vào nước ta thu được dung dịch chứa 2 axit có nồng độ phần trăm bằng nhau. Thành phần phần trăm theo thể tích của 2 khí trong hỗn hợp là:

- A. 60,07% và 39,93%. B. 69,93% và 30,07%. C. 68,93% và 31,07%. D. 67,93% và 32,07%.

Câu 64. Trong phân tử C_2H_4 có bao nhiêu liên kết δ và liên kết π .

- A. 3 δ và 3 π . B. 3 δ và 2 π .
C. 4 liên kết δ và 1 liên kết π . D. 5 liên kết δ và 1 liên kết π .

Câu 65. Cho sơ đồ phản ứng sau: $a Fe_2O_3 + b CO \rightarrow c Fe + d CO_2$.

Hệ số a, b, c, d tương ứng là:

- A. 2, 3, 1, 3. B. 1, 3, 2, 3. C. 1, 4, 1, 5. D. 3, 4, 6, 4.

Câu 66. Có một số phương pháp điều chế khí oxi như sau:

1. Hoá lỏng không khí, sau đó tiến hành chưng cất phân đoạn để tách O_2 ra khỏi N_2 .

2. Điện phân dung dịch NaOH.

3. $Na_2O_2 + H_2O \rightarrow 2NaOH + 1/2O_2 \uparrow$.

4. $H_2O_2 + KMnO_4 + H^+ \rightarrow O_2 \uparrow + Mn^{2+}$.

Muốn điều chế O_2 trong phòng thí nghiệm nên chọn phương pháp nào sau đây? (thiết bị đơn giản, hoá chất sẵn dễ tìm).

- A. 3. B. 4. C. 1. D. 2.

Câu 67. Nồng độ mol /lit của dung dịch HBr 16,2% ($d = 1,02g/ml$).

- A. 2,04. B. 4,53. C. 0,204. D. 1,65.

Câu 68. Đặc điểm nào dưới đây không phải là đặc điểm chung của các nguyên tố halogen.

- A. Là những phi kim điển hình.
B. Đều có 7 electron ở lớp ngoài cùng.
C. Đều thuộc nhóm VIIA trong bảng hệ thống tuần hoàn.
D. ở điều kiện thường là các đơn chất khí.

Câu 69. Hợp chất khí tạo bởi nguyên tố R với hydro là RH, trong oxit cao nhất R chiếm 58,86% về khối lượng, nguyên tố R là:

- A. Br. B. F. C. I. D. Cl.

Câu 70. Trong bảng tuần hoàn, nguyên tố có tính kim loại mạnh nhất và phi kim mạnh nhất là:

- A. Na và O. B. Ca và Cl. C. Ba và At. D. Cs và F.

Câu 71. Có thể phân biệt axit Sunfuric và muối Natri của nó bằng:

- A. Chất chỉ thị màu. B. Dung dịch kiềm. C. Dung dịch $AgNO_3$. D. Dung dịch muối Bari.

Câu 72. Cho các phản ứng sau:

(1) $CaCO_3 \rightarrow CaO + CO_2$ (3) $CuO + H_2 \rightarrow Cu + H_2O$.

(2) $2H_2S + O_2 \rightarrow 2S + 2H_2O$ (4) $CaO + H_2O \rightarrow Ca(OH)_2$.

Dãy gồm các phản ứng oxi hoá - khử là:

- A. (1); (2); (3). B. (1); (2); (3); (4). C. (2); (3). D. (2); (3); (4).

Câu 73. Cộng hoá trị của C trong CH_4 là:

- A. 2. B. 4. C. 3. D. 1.

Câu 74. Bình đựng H_2SO_4 đặc để trong không khí ẩm sau một thời gian thì khối lượng bình thay đổi như thế nào?

- A. Tăng lên. B. Giảm đi. C. Không thay đổi. D. Có thể tăng hoặc giảm.

Câu 75. Để nhận biết O_3 và O_2 ta sử dụng hóa chất nào dưới đây:

- A. Cu. B. H_2 . C. Cl_2 . D. d^2KI, Ag .

Câu 76. Dẫn 33, 6 lít khí H_2S (đktc) vào 2 lít dung dịch NaOH 1M. Sản phẩm muối thu được sau phản ứng là

- A. NaHS và Na_2S . B. Na_2SO_3 . C. NaHS; D. Na_2S .

Câu 77. Nguyên tố Cl ở ô thứ 17 trong bảng tuần hoàn, cấu hình e của ion Cl^- là:

- A. $1s^2 2s^2 2p^6 3s^2 3p^4$. B. $1s^2 2s^2 2p^6 3s^2 3p^2$. C. $1s^2 2s^2 2p^6 3s^2 3p^6$. D. $1s^2 2s^2 2p^6 3s^2 3p^5$.

Câu 78. Để phân biệt dung dịch HCl và dung dịch NaCl cần dùng.

- A. Dung dịch AgNO_3 . B. Dung dịch AgCl . C. Quỳ tím. D. Dung dịch KOH.

Câu 79. Bốn nguyên tố A, B, C, D có số hiệu nguyên tử lần lượt là 9, 17, 35, 53. Các nguyên tố trên được sắp xếp theo chiều tính phi kim giảm dần như sau:

- A. D, C, B, A. B. A, B, C, D. C. A, C, B, D. D. A, D, B, C.

Câu 80. Các chất trong nhóm nào sau đây đều tác dụng với dung dịch HCl?

- A. Quỳ tím, SiO_2 , $\text{Fe}(\text{OH})_3$, Zn, Na_2CO_3 . B. Quỳ tím, CuO, $\text{Cu}(\text{OH})_2$, Zn, Na_2CO_3 .
C. Quỳ tím, CaO, NaOH, Ag, CaCO_3 . D. Quỳ tím, FeO, NH_3 , Cu, CaCO_3 .

Câu 81. Phản ứng: $\text{Cl}_2 + 2\text{NaBr} \rightarrow 2\text{NaCl} + \text{Br}_2$. Chứng tỏ.

- A. Cl_2 có tính khử mạnh hơn Brom. B. Cl_2 có tính oxi hoá mạnh hơn Brom.
C. Cl_2 có tính oxi hoá yếu hơn Brom. D. Cl_2 vừa có tính oxi hoá, vừa có tính khử.

Câu 82. Cho sơ đồ phản ứng sau: $a\text{Al} + b\text{Fe}_3\text{O}_4 \rightarrow c\text{Fe} + d\text{Al}_2\text{O}_3$.

Hệ số a, b, c, d tương ứng là:

- A. 8; 1; 3; 4. B. 3; 1; 4; 5. C. 8; 3; 9; 4. D. 2; 1; 3; 2.

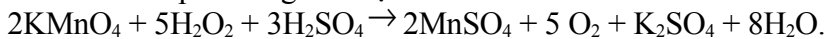
Câu 83. tên gọi nào sau đây không phải của SO_2 ?

- A. khí sunfuro. B. lưu huỳnh đioxit. C. lưu huỳnh trioxit. D. lưu huỳnh (IV) oxit.

Câu 84. Nguyên tố có $Z = 19$ thuộc chu kì:

- A. 4. B. 2. C. 3. D. 5.

Câu 85. Cho phản ứng hóa học sau:



Vai trò của H_2O_2 trong phản ứng là:

- A. H_2O_2 không là chất OXH, không là chất khử. B. H_2O_2 vừa là chất OXH vừa là chất khử.
C. H_2O_2 là chất OXH. D. H_2O_2 là chất khử.

Câu 86. Cho sơ đồ phản ứng sau: $a\text{Al} + b\text{Fe}_3\text{O}_4 \rightarrow c\text{Fe} + d\text{Al}_2\text{O}_3$.

Hệ số a, b, c, d tương ứng là:

- A. 8; 3; 9; 4. B. 3; 1; 4; 5. C. 8; 1; 3; 4. D. 2; 1; 3; 2.

Câu 87. Trong các halogen, nguyên tố nào không thể hiện tính khử?

- A. Iot. B. Clo. C. Brom. D. Flo.

Câu 88. Trong phản ứng: $\text{H}_2 + \text{S} \rightarrow \text{H}_2\text{S}$; vai trò của S là

- A. không là chất OXH, không là chất khử. B. vừa là chất OXH, vừa là chất khử.
C. chất khử. D. chất OXH.

Câu 89. Số oxi hóa của nitơ trong NH_4^+ là:

- A. -3. B. 3+. C. +5. D. +3.

Câu 90. Đốt nhôm trong bình chứa khí clo, sau phản ứng thấy khối lượng chất rắn trong bình tăng 4, 26 gam. Khối lượng nhôm đã tham gia phản ứng là:

- A. 1,62 g. B. 0,86 g. C. 1,08 g. D. 3,24 g.

Câu 91. Hidroxit tương ứng của SO_3 là:

- A. $\text{H}_2\text{S}_2\text{O}_3$. B. H_2SO_4 . C. H_2SO_3 . D. H_2S .

Câu 92. Cho hỗn hợp X gồm Cu và Al tác dụng với dung dịch HCl dư thu được 10, 08 lít khí (đktc). Khối lượng muối tạo thành là:

- A. 19,8 gam. B. 40,05 gam. C. 26,7 gam. D. 4,16 gam.

Câu 93. Nguyên tố R thuộc nhóm VA. Công thức oxit cao nhất là:

- A. RO_5 . B. R_2O_5 . C. RO_2 . D. R_5O_2 .

Câu 94. Cho các phản ứng hóa học sau, phản ứng nào chứng minh Cl_2 có tính Oxi mạnh hơn Br_2 ?

- A. $\text{Br}_2 + 2\text{NaCl} \rightarrow 2\text{NaBr} + \text{Cl}_2$. B. $\text{Cl}_2 + 2\text{NaOH} \rightarrow \text{NaCl} + \text{NaClO} + \text{H}_2\text{O}$.
C. $\text{Br}_2 + 2\text{NaOH} \rightarrow \text{NaBr} + \text{NaBrO} + \text{H}_2\text{O}$. D. $\text{Cl}_2 + 2\text{NaBr} \rightarrow 2\text{NaCl} + \text{Br}_2$.

Câu 95. Các nguyên tử trong một chu kì có đặc điểm chung nào sau đây?

- A. Số electron. B. Số p.
C. Số lớp electron. D. Số electron lớp ngoài cùng.

Câu 96. Cho 1, 2g một kim loại hóa trị II tác dụng với Cl_2 thu được 4, 75g muối clorua. Kim loại là:

- A. Cu. B. Ca. C. Zn. D. Mg.

Câu 97. Chọn đáp án đúng nhất. Liên kết cộng hóa trị là liên kết:

- A. Trong đó cặp electron dùng chung bị lệch về phía một nguyên tử.
B. Được hình thành do sự dùng chung electron của hai nguyên tử khác nhau.

C. Giữ các phi kim với nhau.

D. Được tạo nên giữa hai nguyên tử bằng một hay nhiều cặp electron dùng chung.

Câu 98. Muối thu được khi cho Fe tác dụng với dung dịch axit HCl là:

A. FeCl_2 và FeCl_3 . B. Không tác dụng. C. FeCl_3 . D. FeCl_2 .

Câu 99. Kim loại nào sau đây khi tác dụng với Cl_2 và dung dịch HCl cho cùng một muối:

A. Zn. B. Au. C. Cu. D. Fe.

Câu 100. Cho biết độ âm điện của O (3,44); Cl(3,16). Liên kết trong phân tử Cl_2O_7 ; Cl_2 ; O_2 là liên kết:

A. Ion. B. Vừa liên kết ion, vừa liên kết cộng hoá trị.

C. Cộng hoá trị phân cực. D. Cộng hoá trị không cực.

Câu 101. Những kết luận nào sau đây đúng? Trong một nhóm A theo chiều tăng của điện tích hạt nhân thì:

A. Tính bazơ của các oxit và hiđrôxit tương ứng tăng dần, đồng thời tính axit cũng tăng dần.

B. Tính kim loại giảm, tính phi kim tăng.

C. Số electron lớp ngoài cùng giảm dần.

D. Độ âm điện giảm.

Câu 102. Cho các cặp sau:

1. Dung dịch HCl + dung dịch H_2SO_4
 $\text{K}_2\text{Cr}_2\text{O}_7$.

2. KMnO_4 +

1. H_2S + HNO_3

4. H_2SO_4

+ $\text{Pb}(\text{NO}_3)_2$.

Cặp nào cho được phản ứng oxyhoá - khử?

A. Cặp 1,2,4. B. Cả 4 cặp. C. Cặp 1,2. D. Chỉ có cặp 3.

Câu 103. Cho sơ đồ phản ứng $\text{Cu} + \text{H}_2\text{SO}_4 \rightarrow \text{CuSO}_4 + \text{SO}_2 + \text{H}_2\text{O}$. Trong đó Cu đóng vai trò là

A. Không là chất khử, không là chất oxi hoá.

B. Vừa là chất khử vừa là chất oxi hoá.

C. Chất khử.

D. Chất oxi hoá.

Câu 104. Cho MnO_2 tác dụng với dung dịch HCl, toàn bộ khí sinh ra được hấp thụ hết vào dung dịch kiềm đặc nóng tạo ra dung dịch X. Trong dung dịch X có những muối nào sau đây:

A. KCl, KClO.

B. NaCl, NaOH.

C. NaCl, NaClO_3 .

D. NaCl, NaClO.

Câu 105. Nguyên tử X có cấu hình electron của phân lớp có năng lượng cao nhất là $3p^4$. Hãy chỉ ra câu sai khi nói về nguyên tử X:

A. Trong bảng tuần hoàn, X nằm ở nhóm IVA.

B. Lớp ngoài cùng của nguyên tử X có 6 electron.

C. Trong bảng tuần hoàn, X nằm ở chu kì 3.

D. Hạt nhân nguyên tử X có 16 proton.

Câu 106. Nguyên tắc pha loãng axit H_2SO_4 đặc vào nước là

A. rót nhanh axit vào nước.

B. rót từ từ nước vào axit. C. rót nhanh nước vào axit. D.

rót từ từ axit vào nước.

Câu 107. Thuốc thử để nhận biết HCl và muối clorua là:

A. Dung dịch AgNO_3 .

B. Dung dịch $\text{Ba}(\text{OH})_2$.

C. Dung dịch BaCl_2 .

D. Dung dịch NaOH.

Câu 108. Hòa tan 12, 8g hỗn hợp gồm Fe, FeO bằng dung dịch HCl 0, 1M vừa đủ thu được 2, 24l khí(ĐKC). Thể tích dung dịch HCl đã dùng là:

A. 4 lit.

B. 14,2 lit.

C. 2 lit.

D. 4,2 lit.

Câu 109. Cho lượng dư dung dịch AgNO_3 tác dụng với 100 ml dung dịch hỗn hợp NaF 0, 05M và NaCl 0, 1M. Khối lượng kết tủa tạo thành là bao nhiêu (trong các số cho dưới đây)?

A. 3,345 g.

B. 1,345 g.

C. 2,875 g.

D. 1,435 g.

Câu 110. Để điều chế Cl_2 không thể dùng phản ứng nào sau đây?

A. HCl đặc + KMnO_4 .

B. Điện phân dd NaCl bão hoà, có màng ngăn.

C. HCl đặc + SO_3 .

D. HCl đặc + MnO_2 .

Câu 111. Tính chất nào sau đây của các nguyên tố biến đổi tuần hoàn theo chiều tăng của điện tích hạt nhân?

A. Số lớp electron.

B. Số p trong hạt nhân nguyên tử.

C. Số electron lớp ngoài cùng.

D. Nguyên tử khối.

Câu 112. Ion nào có tính khử mạnh nhất?

A. I^- .

B. F^- .

C. Cl^- .

D. Br^- .

Câu 113. S tác dụng với Fe, sản phẩm là

A. Fe_2S_2 .

B. FeS_2 .

C. Fe_2S_3 .

D. FeS.

Câu 114. Hidroxit tương ứng của SO_3 là:

A. $\text{H}_2\text{S}_2\text{O}_3$.

B. H_2S .

C. H_2SO_4 .

D. H_2SO_3 .

Câu 115. Nguyên tố X thuộc chu kì 4, nhóm IIIA. Cấu hình electron nguyên tử của X là:

A. $1s^2 2s^2 2p^6 3s^2 3p^1$.

B. $1s^2 2s^2 2p^6 3s^2 3p^4 s^2$.

C. $1s^2 2s^2 2p^6 3s^2 3p^6 3d^{10} 4s^2 4p^1$.

D. $1s^2 2s^2 2p^6 3s^2 3p^6 3d^3 4s^2$.

- Câu 116.** Nguyên tố M thuộc chu kì 4, số electron hoá trị của M là 1. Cấu hình electron của M là:
A. $1s^2 2s^2 2p^6 3s^2 3p^6 3d^1 4s^2$. **B.** $1s^2 2s^2 2p^6 3s^2 3p^6 4s^2$. **C.** $1s^2 2s^2 2p^6 3s^2 3p^6 3d^1$. **D.** $1s^2 2s^2 2p^6 3s^2 3p^6 4s^1$.
- Câu 117.** Cho các nguyên tố ${}_{20}\text{Ca}$, ${}_{12}\text{Mg}$, ${}_{13}\text{Al}$, ${}_{14}\text{Si}$, ${}_{15}\text{P}$. Thứ tự tính kim loại giảm dần là:
A. P, Si, Mg, Al, Ca. **B.** P, Si, Al, Ca, Mg. **C.** P, Al, Mg, Si, Ca. **D.** Ca, Mg, Al, Si, P.
- Câu 118.** Số oxi hoá của S trong S^{2-} ; SO_3 ; CuSO_4 lần lượt là:
A. -2; +6; +6. **B.** -2; +6; +5. **C.** 2-; +4; +8. **D.** 0; +5; -6.
- Câu 119.** Số oxi hoá của các nguyên tố Cl, S, C trong các hợp chất sau: HClO_3 ; SO_2 ; CO_3^{2-} lần lượt là
A. +5; +4; +4. **B.** +1; +3; +4. **C.** +1; +5; +4. **D.** +3; +4; +5.
- Câu 120.** Câu nào sau đây diễn tả đúng tính chất của SO_2 ?
A. vừa có tính oxi hoá, vừa có tính khử. **B.** chỉ có tính khử mạnh.
C. chỉ có tính oxi hoá mạnh. **D.** không có tính oxi hoá, không có tính khử.
- Câu 121.** ứng dụng nào sau đây không phải là của Clorua vôi.
A. Xử lí các chất độc. **B.** Tẩy trắng sợi, vải, giấy.
C. Tẩy uế chuồng trại chăn nuôi. **D.** Sản xuất vôi.
- Câu 122.** Khi đun lưu huỳnh đến $444,6^\circ\text{C}$ thì nó tồn tại ở dạng nào?
A. Rắn. **B.** Hơi. **C.** Lỏng. **D.** Bắt đầu hoá hơi.
- Câu 123.** Nồng độ mol / lit của dung dịch HCl 36,5% ($d= 1,2\text{g/ml}$) là:
A. 0,6M. **B.** 1,8M. **C.** 2M. **D.** 1,2M.
- Câu 124.** Một nguyên tử X tạo ra hợp chất H_3X với Hidrô và X_2O_3 với oxi. Biết rằng X có 3 lớp electron. Xác định Z của X.
A. 14; **B.** 13; **C.** 12;
D. 15.
- Câu 125.** Trong phản ứng hoá học sau: $\text{SO}_2 + \text{Br}_2 + 2\text{H}_2\text{O} \rightarrow \text{H}_2\text{SO}_4 + 2\text{HBr}$.
 Brom đóng vai trò:
A. Vừa là chất oxi hoá, vừa là chất khử. **B.** Chất oxi hoá.
C. Chất khử. **D.** Không là chất oxi hoá, không là chất khử.
- Câu 126.** Phản ứng giữa Clo và H_2 có thể xảy ra ở điều kiện.
A. ánh sáng mặt trời. **B.** Không cần điều kiện.
C. ánh sáng của Magie cháy. **D.** Nhiệt độ thường và bóng tối.
- Câu 127.** Số oxi hoá của Clo trong các hợp chất: NaClO_3 ; Cl_2O ; NaCl lần lượt là:
A. +5; +2; +1. **B.** +5; +1; -1. **C.** +5; +1; +1. **D.** +6; +2; -1.
- Câu 128.** Có các dd: $\text{Ba}(\text{OH})_2$, Na_2SO_4 , NaCl , HCl chỉ được dùng một thuốc thử thì thuốc thử nào sau đây có thể nhận biết được các dd này?
A. Dd NaOH. **B.** Dd KCl. **C.** Dd HCl. **D.** Quỳ tím.
- Câu 129.** Trong các mệnh đề sau, mệnh đề nào sai?
A. Nhóm B gồm cả các nguyên tố thuộc chu kì nhỏ và chu kì lớn.
B. Các nguyên tố d và f còn được gọi là các nguyên tố kim loại chuyển tiếp.
C. Nhóm A chỉ gồm các nguyên tố thuộc chu kì lớn.
D. Bảng tuần hoàn gồm 7 chu kì và 8 nhóm.
- Câu 130.** Khi cho axit sunfuric vào NaCl rắn, khí sinh ra là
A. Cl_2 . **B.** H_2S . **C.** SO_2 . **D.** HCl .
- Câu 131.** Cho 3, 6 gam kim loại nhóm IIA, tác dụng hết với nước thu được 3, 36 lít khí ở (đktc). Kim loại đó là:
A. K. **B.** Ca. **C.** Mg. **D.** Na.
- Câu 132.** Điện phân dung dịch muối ăn, không có màng ngăn, sản phẩm tạo thành là:
A. NaOH , H_2 , Cl_2 . **B.** NaOH , H_2 . **C.** Na , Cl_2 . **D.** NaCl , NaClO , H_2O .
- Câu 133.** Nguyên tố X có $Z = 23$ nằm trong hàng nào, nhóm nào của bảng HTTH.
A. Hàng 4, nhóm VB. **B.** Hàng 3, nhóm IIIA. **C.** Hàng 3, nhóm III B. **D.** Hàng 4, nhóm IIIA.
- Câu 134.** Để điều chế Cl_2 không thể dùng phản ứng nào sau đây?
A. Điện phân dd NaCl bão hoà, có màng ngăn. **B.** HCl đặc + MnO_2 .
C. HCl đặc + KMnO_4 . **D.** HCl đặc + SO_3 .
- Câu 135.** Phản ứng nào sau đây là tốt nhất để điều chế HI?
A. $\text{NaI} + \text{HCl}$ đặc \rightarrow . **B.** $\text{H}_2 + \text{I}_2 \rightarrow$. **C.** $\text{NaI} + \text{H}_2\text{SO}_4$ đặc t° . **D.** $\text{PI}_3 + \text{H}_2\text{O} \rightarrow$.
- Câu 136.** Nguyên tử Mg ($z = 12$):
A. Nhường 2e trở thành ion Mg^{2+} . **B.** Nhường 2e trở thành ion Mg^{2-} .
C. Nhận 2e trở thành ion Mg^{2+} . **D.** Nhận 2e trở thành ion Mg^{2-} .
- Câu 137.** Clo phản ứng được với những dãy chất nào sau đây:
A. H_2 , H_2O , NaOH , Au. **B.** Cu , H_2 , H_2O , O_2 . **C.** Cu , H_2 , H_2O , NaOH . **D.** H_2O , NaOH , Au, HCl .

Câu 138. Trong các phi kim: Flo, Oxi, Clo- phi kim nào chỉ có tính oxy hoá, phi kim nào có cả 2 tính chất oxy hoá và khử theo thứ tự?

- A. Cả ba phi kim có tính oxy hoá.
 B. F₂, O₂ chỉ có tính oxy hoá; Cl₂ có cả tính oxy hoá và khử.
 C. Cả ba phi kim đều có tính oxy hoá và khử.
 D. F₂ chỉ có tính oxy hoá; O₂ và Cl₂ có cả 2 tính chất oxy hoá và khử.

Câu 139. Nhận xét nào sau đây không đúng:

- A. Flo có các số oxy hóa là: -1; 0; +1; +3; +5; +7. B. Flo chỉ thể hiện tính oxy hóa.
 C. Flo tác dụng với tất cả các kim loại. D. Flo là phi kim có tính oxy hóa mạnh nhất.

Câu 140. Trong 4 axit HI, HBr, HCl, HF thì axit mạnh.

- A. HBr. B. HCl. C. HI. D. HF.

Câu 141. Muối thu được khi cho Fe tác dụng với khí Cl₂ là:

- A. FeCl₂. B. FeCl₃. C. FeCl₂ và FeCl₃. D. FeCl.

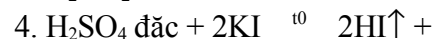
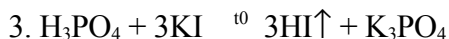
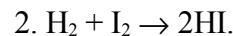
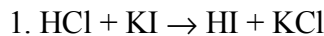
Câu 142. Điện hoá trị của Na; Mg; Al trong NaCl; MgO; Al₂O₃ lần lượt là:

- A. 1-; 2-; 3+. B. 1+; 2+; 3+. C. 2+; 3+; 4-. D. 1+; 3+; 4+.

Câu 143. Cho 20 gam hỗn hợp gồm Mg và Fe tác dụng với HCl dư thấy có 1 gam H₂ thoát ra. Khối lượng muối clorua tạo thành trong dd là bao nhiêu gam?

- A. 45,5 gam. B. 65,5 gam. C. 55,5 gam. D. 40,5 gam.

Câu 144. Để điều chế HI, có thể dùng các phản ứng nào trong các phản ứng sau:



- A. 2,3 B. 1,2 C. 3,4. D.

2,4

Câu 145. Cho biết ¹⁶O và ³²S. Tổng số electron và số notron có trong ion SO₄²⁻ là

- A. 46 và 48. B. 49 và 49. C. 50 và 48. D. 48 và 46.

Câu 146. Ozon và hiđro peoxit có những tính chất hoá học nào giống nhau sau đây:

- A. Đều có tính oxihóa -khử. B. Đều có tính khử. C. Đều có tính oxihóa. D. Là hợp chất bền.

Câu 147. Cộng hoá trị của C; N trong CH₄; NH₃ là:

- A. 2; 4. B. 4; 3. C. 3; 3. D. 1; 4.

Câu 148. đốt H₂S trong điều kiện dư oxy thu được sản phẩm là

- A. H₂SO₄, H₂O. B. SO₃, H₂O. C. S, H₂O. D. SO₂, H₂O.

Câu 149. Một nguyên tử M có 111 electron và 141 notron. Ký hiệu nào sau đây là ký hiệu của nguyên tử M.

- A. $^{111}_{80}M$. B. $^{141}_{80}M$. C. $^{141}_{111}M$. D. $^{252}_{111}M$.

Câu 150. Bốn nguyên tố A, B, C, D có số hiệu nguyên tử lần lượt là 9, 17, 35, 53. Các nguyên tố trên được sắp xếp theo chiều tính phi kim giảm dần như sau:

- A. A, C, B, D. B. A, D, B, C. C. A, B, C, D. D. D, C, B, A.

Câu 151. Số oxy hoá của S trong S²⁻; H₂SO₄ lần lượt là:

- A. -2; +6. B. 2-; +6. C. -2; +6. D. 0; +6.

Câu 152. Cho các tính chất và đặc điểm cấu tạo nguyên tử của các nguyên tố hoá học:

- a. Hoá trị cao nhất đối với oxy b. Khối lượng nguyên tử c. Số electron thuộc lớp ngoài cùng d. Số lớp electron.
 e. Tính phi kim g. Bán kính nguyên tử h. Số proton trong hạt nhân nguyên tử i. Tính kim loại.

Những tính chất biến đổi tuần hoàn theo chiều tăng điện tích hạt nhân ngử là:

- A. a, b, c, d. B. a, c, e, i. C. g, h, i, e. D. e, g, h, i.

Câu 153. Cho các nguyên tố ²⁰Ca, ¹²Mg, ¹³Al, ¹⁴Si, ¹⁵P. Thứ tự tính kim loại giảm dần là:

- A. P, Al, Mg, Si, Ca. B. Ca, Mg, Al, Si, P. C. P, Si, Al, Ca, Mg. D. P, Si, Mg, Al, Ca.

Câu 154. Cho các chất sau: H₂S, SO₂, H₂SO₄, d²Br₂. Có bao nhiêu phản ứng có thể xảy ra khi cho các chất tác dụng với nhau?

- A. 2. B. 5. C. 4. D. 3.

Câu 155. Điện phân dung dịch muối ăn, không có màng ngăn, sản phẩm tạo thành là:

- A. NaOH, H₂, Cl₂. B. NaOH, H₂. C. Na, Cl₂. D. NaCl, NaClO, H₂O.

Câu 156. Khối lượng NaOH cần dùng để trung hòa hết 200ml dung dịch HCl 1M là

- A. 4 gam. B. 40 gam. C. 80gam. D. 8 gam.

Câu 157. Tính chất hoá học của các nguyên tố được xác định trước tiên bằng:

- A. Vị trí của nguyên tố trong bảng tuần hoàn. B. Cấu hình của lớp electron hoá trị.
C. Khối lượng nguyên tử. D. Điện tích hạt nhân nguyên tử.

Câu 158. Cho một luồng khí clo dư tác dụng với 9,2g kim loại sinh ra 23,4g muối kim loại hoá trị I. Muối của kim loại hoá trị I là muối nào sau đây:

- A. LiCl. B. CsCl. C. KCl. D. NaCl.

Câu 159. Tính chất nào sau đây là tính chất đặc biệt của dung dịch HF? Giải thích bằng phản ứng.

- A. Có tính oxihoá. B. Ăn mòn các đồ vật bằng thủy tinh.
C. Là axit yếu. D. Có tính khử yếu.

Câu 160. Công thức cấu tạo đúng của CO_2 là:

- A. $\text{O} = \text{C} = \text{O}$. B. $\text{O} \leftarrow \text{C} \rightarrow \text{O}$. C. $\text{O} = \text{C} \rightarrow \text{O}$. D. $\text{O} - \text{C} = \text{O}$.

Câu 161. Cộng hoá trị của O; N_2 trong H_2O ; N_2 là:

- A. 2; 3. B. 4; 2. C. 3; 2. D. 1; 3.

Câu 162. Hidroxit tương ứng của SO_3 là:

- A. H_2S . B. H_2SO_3 . C. H_2SO_4 . D. H_2SO_2 .

Câu 163. Thêm dung dịch AgNO_3 0, 1M vào 100ml dung dịch chứa KCl và KI có cùng nồng độ là 0, 1M Thu được kết tủa nặng 3, 211gam. Cho biết AgI kết tủa hết rồi mới đến AgCl kết tủa. Tính thể tích dung dịch AgNO_3 đã dùng. Cho I = 127; Cl = 35,5; Ag = 108.

- A. 120ml B. 100ml; C. 160ml;
D. 80ml.

Câu 164. Dãy gồm các phi kim được sắp xếp theo thứ tự tính phi kim giảm dần. Bi?t đ? òm di?n c?a F, O, Cl, S l?n lu? t là: 3,97; 3,44; 3,16; 2,58.

- A. F, Cl, O, S. B. F, Cl, S, O. C. Cl, F, S, O. D. F, O, Cl, S.

Câu 165. Nguyên tố A có Z = 24. A có vị trí trong bảng tuần hoàn:

- A. Chu kì 3, nhóm IVA. B. Chu kì 4, nhóm IIA. C. Chu kì 3, nhóm IVB. D. Chu kì 4, nhóm VIB.

Câu 166. Liên kết tạo thành giữa hai nguyên tử có cấu hình electron hoá trị là $2s^2 2p^5$ sẽ thuộc loại liên kết nào sau đây:

- A. ion. B. Cộng hoá trị phân cực.
C. Kim loại. D. Cộng hoá trị không phân cực.

Câu 167. Mạng tinh thể kim cương thuộc loại:

A. Mạng tinh thể phân tử. B. Mạng tinh thể nguyên tử. C. Mạng tinh thể ion. D. Mạng tinh thể kim loại.

Câu 168. Theo chiều từ F, Cl, Br, I giá trị độ âm điện:

- A. Không có quy luật chung. B. Không thay đổi. C. Giảm dần. D. Tăng dần.

Câu 169. Electron cuối cùng của nguyên tố M điền vào phân lớp $3p^3$. Số electron hoá trị của M là:

- A. 3. B. 4. C. 5. D. 2.

Câu 170. Nguyên tố X có tổng số proton, notron, electron là 13. Vậy X thuộc:

- A. Chu kì 2, nhóm IIIA. B. Chu kì 3, nhóm IIA. C. Chu kì 2, nhóm IIA. D. Chu kì 3, nhóm IVA.

Câu 171. Khối lượng NaOH cần dùng để trung hòa hết 200ml dung dịch HCl 1M là

- A. 8 gam. B. 4 gam. C. 80gam. D. 40 gam.

Câu 172. Số oxi hoá của Clo trong các hợp chất: NaClO_3 ; Cl_2O ; NaCl lần lượt là:

- A. +5; +2; +1. B. +5; +1; +1. C. +6; +2; -1. D. +5; +1; -1.

Câu 173. Quá trình nào sau đây không sinh ra oxi?

- A. Cho MnO_2 tác dụng với HCl đặc, đun nóng. B. điện phân nước.
C. Nhiệt phân KClO_3 , xúc tác MnO_2 . D. Cây xanh quang hợp.

Câu 174. Điện hoá trị của Natri, Magiê, nhôm trong các hợp chất: NaCl , MgO , Al_2O_3 lần lượt là:

- A. 1+, 2-, 3+. B. 1+, 1-, 3+. C. 1-, 2-, 3-. D. 1+, 2+, 3+.

Câu 175. Câu nào sau đây diễn tả đúng tính chất của ozon?

- A. có tính oxi hoá mạnh. B. vừa có tính oxi hoá, vừa có tính khử.
C. không có tính oxi hoá, không có tính khử. D. có tính khử mạnh.

Câu 176. Cho biết độ âm điện của Na (0,93); Mg(1,31); Al(1,61); O(3,44). Liên kết trong phân tử Na_2O , MgO , Al_2O_3 là

- A. Cộng hoá trị có cực. B. Liên kết ion. C. Kim loại. D. Cộng hoá trị không cực.

Câu 177. Tên gọi đúng của NaClO là:

- A. Natrihipoclorit. B. Natriclorat. C. Natriclorua. D. Natrihipoclorơ.

Câu 178. Sục khí O_3 vào dung dịch KI sau đó cho quì tím vào hỗn hợp sau phản ứng thì xảy ra hiện tượng là:

- A. Quì tím chuyển thành màu xanh. B. Quì tím chuyển màu hồng.

C. Quì tím chuyển màu đỏ.

D. Quì tím không đổi màu.

Câu 179. Tên gọi nào sau đây không phải của SO_2 ?

A. Lưu huỳnh trioxit.

B. Khí sunfuro.

C. Lưu huỳnh (IV) oxit.

D. Lưu huỳnh đioxit.

Câu 180. Trong phân tử CO_2 có bao nhiêu liên kết δ và liên kết π .

A. 2 δ và 1 π .

B. 1 δ và 2 π .

C. 3 δ và 1 π .

D. 2 δ và 2 π .

Câu 181. Cho một lượng dư KMnO_4 vào 25 ml dung dịch HCl 8M. Thể tích khí clo sinh ra là:

A. 1,45 lít.

B. 1,4lít.

C. 1,44 lít.

D. 1,34 lít.

Câu 182. 2 nguyên tố X và Y kế tiếp nhau trong cùng một chu kì của bảng tuần hoàn có tổng số điện tích hạt nhân là 23. X và Y là:

A. Na và Mg.

B. O và Cl.

C. Mg và Al.

D. Ne và P.

Câu 183. Để điều chế F_2 , người ta dùng cách:

A. Điện phân dung dịch hỗn hợp HF, KF với anốt bằng thép hoặc Cu.

B. Đun CaF_2 với H_2SO_4 đậm đặc nóng.

C. Oxihoa khí HF bằng O_2 không khí.

D. Cho dung dịch HF tác dụng với MnO_2 đun nóng.

Câu 184. Muối thu được khi cho Fe tác dụng với khí Cl_2 là:

A. FeCl_3 .

B. FeCl .

C. FeCl_2 và FeCl_3 .

D. FeCl_2 .

Câu 185. 2 nguyên tố X và Y kế tiếp nhau trong cùng một chu kì của bảng tuần hoàn có tổng số điện tích hạt nhân là 39. X và Y là:

A. Cr và P.

B. O và Cl.

C. Mg và Al.

D. K và Ca.

Câu 186. Lấy 197 g hỗn hợp muối kali clorua và kali clorat thêm 3g mangan đioxit làm xúc tác. Trộn kĩ và đun nóng hỗn hợp đến phản ứng hoàn toàn thu được bã rắn cân nặng 152 g. Phần trăm khối lượng kali clorat trong hỗn hợp muối đầu là:

A. 70%.

B. 74,62%.

C. 62,18%.

D. 58,30%.

Câu 187. Cho độ âm điện N (3,04); C(2,55); H(2,2); O(3,44). Trong các phân tử: N_2 ; CH_4 ; H_2O ; NH_3 , phân tử phân cực mạnh nhất là:

A. H_2O .

B. NH_3 .

C. N_2 .

D. H_2O .

Câu 188. Một chất lỏng không màu có các tính chất sau:

- Làm cho phenol phtalein màu hồng trở lại không màu.

- Tác dụng với một số kim loại giải phóng H_2 .

- Tác dụng với muối cacbonat giải phóng khí CO_2 .

Chất lỏng đó có thể là:

A. dung dịch FeCl_3 .

B. Dung dịch NaCl .

C. Dung dịch HCl .

D. Dung dịch NaOH .

Câu 189. Hãy axit nào sau đây được sắp xếp đúng theo thứ tự tính axit giảm dần.

A. HF, HI, HBr, HCl.

B. HI, HBr, HF, HCl.

C. HI, HBr, HCl, HF.

D. HC, I HI, HBr, HF.

Câu 190. Dung dịch nào sau đây không phản ứng với dung dịch AgNO_3 .

A. NaF.

B. NaCl.

C. NaI.

D. NaBr.

Câu 191. Một oxit tạo thành bởi mangan và oxi, trong đó tỉ lệ khối lượng giữa mangan và oxi là 55: 24. Công thức phân tử của oxit là công thức nào sau đây:

A. Mn_2O_3 .

B. MnO_2 .

C. MnO .

D. Mn_2O_7 .

Câu 192. Nguyên tử X có phân lớp ngoài cùng là 3d và tạo với oxy hợp chất X_2O_3 . Xác định cấu tạo của phân lớp 4s và 3d.

A. $4s^1 3d^2$;

B. $4s^2 3d^1$;

C. $4s^0 3d^3$.

D. $4s^2 3d^2$;

Câu 193. Tính chất đặc biệt của I_2 cần được lưu ý là:

A. Iot tan nhiều trong ancol etylic tạo thành cồn iot dùng để sát trùng.

B. Khi đun nóng iot thăng hoa tạo thành hơi màu tím.

C. Iot là phi kim nhưng ở thể rắn.

D. Iot ít tan trong nước.

Câu 194. Lấy 32 gam O_2 cho vào một bình kín có dung tích là 2, 24 lít ở đktc. Cho một tia hồ quang đi qua khí O_2 có phản ứng tạo thành Ozôn theo phương trình $3\text{O}_2 \rightarrow 2\text{O}_3$.

Sau phản ứng đưa bình về 0°C thì áp suất trong bình là 9, 5 atm. Tính tỉ lệ O_2 đã biến thành O_3 .

A. 20%

B. 18%

C.

22%

D. 15%.

Câu 195. Tính oxi hoá của các halogen giảm dần theo thứ tự:

A. Cl_2 , Br_2 , I_2 , F_2 .

B. F_2 , Br_2 , I_2 , Cl_2 .

C. F_2 , Cl_2 , Br_2 , I_2 .

D. Br_2 , F_2 , I_2 , Cl_2 .

Câu 196. Số oxi hoá của nitơ trong NH_4^+ ; NO lần lượt là:

A. -4; -2. B. -3; -1. C. +4; +2. D. -3; +2.

Câu 197. Phản ứng chứng minh tính khử của HCl là:

A. $\text{MnO}_2 + 4\text{HCl} \rightarrow \text{MnCl}_2 + \text{Cl}_2 + 2\text{H}_2\text{O}$.

Phần trắc nghiệm khách quan: chọn phương án trả lời A, B, C hoặc D tương ứng với nội dung câu hỏi:

B. $\text{CaCO}_3 + 2\text{HCl} \rightarrow \text{CaCl}_2 + \text{CO}_2 + \text{H}_2\text{O}$.

C. $\text{CuO} + 2\text{HCl} \rightarrow \text{CuCl}_2 + \text{H}_2\text{O}$.

D. $\text{Fe}(\text{OH})_3 + 3\text{HCl} \rightarrow \text{FeCl}_3 + 3\text{H}_2\text{O}$.

Câu 198. Đổ dung dịch chứa 0, 1mol HBr vào dung dịch chứa 0, 2 mol NaOH. Nhúng giấy quỳ tím vào dung dịch thu được thì giấy quỳ tím chuyển sang màu nào.

A. Màu xanh.

B. Màu đỏ.

C. Không xác định được. D. Không đổi màu.

Câu 199. Lai hoá sp^3 là sự tổ hợp:

A. 1A0s với 3A0p.

B. 3A0s với 1A0p.

C. 1A0s với 4A0p.

D. 2A0s với 2A0p.

Câu 200. Trong phòng thí nghiệm, khí Clo thường được điều chế bằng cách oxi hóa hợp chất nào sau đây:

A. NaClO.

B. HCl.

C. KMnO_4 .

D. KCl.

Câu 201. Cho 2, 3g kim loại nhóm I A phản ứng hết với H_2O thì có 1, 12 lít khí H_2 bay ra (đktc). Kim loại có nguyên tử khối là:

A. 24.

B. 23.

C. 40.

D. 9.

Câu 202. Để phân biệt dung dịch Natri clorua và dung dịch Natri florua, người ta có thể dùng thuốc thử nào trong các chất sau đây:

A. Dung dịch AgNO_3 .

B. Dung dịch $\text{Ba}(\text{OH})_2$.

C. Dung dịch $\text{Ca}(\text{OH})_2$.

D. Dung dịch Flo.

Câu 203. Yếu tố nào dưới đây được sử dụng để làm tăng tốc độ phản ứng khi rắc men vào tinh bột đã được nấu chín để ủ ancol?

A. Chất xúc tác.

B. áp suất.

C. Nồng độ.

D. Nhiệt độ.

Câu 204. để hờ lợ dung dịch H_2S lâu ngày trong không khí thấy có hiện tượng.

A. Không hiện tượng.

B. Kết tủa trắng.

C. Vẩn đục đen.

D. Vẩn đục vàng.

Câu 205. Số oxi hoá của nitơ trong NH_4^+ ; NO; HNO_3 lần lượt là:

A. +4; +2; +6.

B. -3; -1; +5.

C. -3; +2; +5.

D. -4; -2; -5.

Câu 206. Sản phẩm tạo thành khi điện phân dung dịch NaCl loãng nguội, có màng ngăn là:

A. NaClO_3 , H_2 ; Cl_2 .

B. NaOH, Cl_2 , H_2 .

C. NaOH, H_2 .

D. NaClO, H_2 .

Câu 207. Khí H_2S được điều chế bằng phản ứng nào sau đây:

A. $\text{CuS} + \text{H}_2\text{SO}_4$ đặc.

B. $\text{Cu} + \text{H}_2\text{SO}_4$ đặc.

C. $\text{Mg} + \text{H}_2\text{SO}_4$ loãng.

D. $\text{Mg} + \text{H}_2\text{SO}_4$ không quá đặc.

Câu 208. Cấu hình electron của Ca^{2+} là:

A. $1s^2 2s^2 2p^6 3s^2 3p^6 3d^6$.

B. $1s^2 2s^2 2p^6 3s^2 3p^6 3d^5$.

C. $1s^2 2s^2 2p^6 3s^2 3p^6$.

D. $1s^2 2s^2 2p^6 3s^2 3p^6 4s^2 3d^4$.

Câu 209. Nguyên tố R có công thức oxit cao nhất là RO_3 . Nguyên tố R thuộc nhóm:

A. IV A.

B. VA.

C. III A.

D. VI A.

Câu 210. Cho 2, 0 gam kim loại nhóm IIA, tác dụng hết với nước thu được 1, 12 lít khí ở (đktc). Kim loại đó là:

A. K.

B. Mg.

C. Ca.

D. Ba.

Câu 211. Cho 3, 36 lít oxi (đktc) phản ứng hoàn toàn với kim loại hoá trị III thu được 10, 2 g oxit. Công thức phân tử của oxit là:

A. Au_2O_3 .

B. Al_2O_3 .

C. Fe_2O_3 .

D. Cr_2O_3 .

Câu 212. Điện hóa trị của Na trong NaCl là:

A. 1.

B. +1.

C. 1+.

D. -1.

Câu 213. Trong phản ứng: $\text{SO}_2 + \text{Br}_2 + 2\text{H}_2\text{O} \rightarrow \text{H}_2\text{SO}_4 + 2\text{HBr}$; vai trò của SO_2 là

A. không là chất OXH, không là chất khử.

B. chất khử.

C. chất OXH.

D. vừa là chất OXH, vừa là chất khử.

Câu 214. Cho các phản ứng sau:

(1) $2\text{HgO} \rightarrow 2\text{Hg} + \text{O}_2$

(3) $2\text{Fe} + 2\text{HCl} \rightarrow \text{FeCl}_2 + \text{H}_2 \uparrow$.

(2) $\text{KClO}_3 \rightarrow \text{KCl} + \text{O}_2$

(4) $\text{P}_2\text{O}_5 + \text{H}_2\text{O} \rightarrow \text{H}_3\text{PO}_4$.

Dãy gồm phản ứng oxi hoá-khử là:

A. (1); (3).

B. (1); (3); (4).

C. (1); (2); (4).

D. (1); (2); (3).

Câu 215. Nhận xét nào sau đây không đúng:

A. Flo chỉ thể hiện tính oxi hóa.

B. Flo là phi kim có tính oxi hóa mạnh nhất.

C. Flo có các số oxi hóa là: -1; 0; +1; +3; +5; +7.

D. Flo tác dụng với tất cả các kim loại.

Câu 216. Cho biết độ âm điện của F (3,44); S(2,58); P(2,19); Br(2,96). Thứ tự tính phi kim giảm dần là:

A. Br, F, S, P.

B. F, S, Br, P.

C. F, Br, S, P.

D. P, S, Br, F.

Câu 217. Sản phẩm tạo thành khi điện phân dung dịch NaCl loãng nguội, có màng ngăn là:

- A. NaClO, H₂. B. NaClO₃, H₂; Cl₂. C. NaOH, Cl₂, H₂. D. NaOH, H₂.

Câu 218. Các nguyên tố ⁹F; ¹⁷Cl; ³⁵Br; ⁵³I được sắp xếp theo chiều tính phi kim giảm dần là:

- A. I, Br, Cl, F. B. Cl, F, I, Br. C. F, Cl, Br, I. D. F, Br, Cl, I.

Câu 219. Cho các nguyên tố Na (Z = 11); Mg (Z = 12); Al (Z = 13); Si (Z = 14). Trật tự sắp xếp các chất theo thứ tự tăng dần tính kim loại là:

- A. Na < Mg < Si < Al. B. Al < Mg < Na < Si. C. Mg < Al < Si < Na. D. Si < Al < Mg < Na.

Câu 220. Hoà tan 10 gam hỗn hợp bột Fe và Fe₂O₃ bằng một lượng dung dịch HCl vừa đủ, thu được 1, 12 lít H₂(đktc) và dung dịch A. Cho NaOH dư vào dung dịch A thu được kết tủa, nung kết tủa trong không khí đến khối lượng không đổi được m gam chất rắn thì giá trị của m là:

- A. 11,2g. B. 16g. C. 12,2g. D. 12g.

Câu 221. Hoà tan 2, 24 lít khí hydroclorua vào 46, 35 gam nước thu được dung dịch HCl có nồng độ là:

- A. 73%. B. 7,3%. C. 6,7%. D. 67%.

Câu 222. Cation M³⁺ có 18 electron. Cấu hình electron của nguyên tố M là:

- A. 1s²2s²2p⁶3s²3p⁶3d¹4s². B. 1s²2s²2p⁶3s²3p⁵. C. 1s²2s²2p⁶3s²3p⁴. D. 1s²2s²2p⁶3s²3p⁶.

Câu 223. Các nguyên tử trong một chu kì có đặc điểm chung nào sau đây?

- A. Số lớp electron. B. Số electron.
C. Số p. D. Số electron lớp ngoài cùng.

Câu 224. Khi làm nổ 40ml hỗn hợp gồm khí H₂ và khí O₂, sau đó làm lạnh thấy còn lại 6, 4ml khí O₂. Tính % theo V của hỗn hợp khí ban đầu biết các khí đo ở cùng điều kiện:

- A. 30%. B. 80%. C. 20%. D. 60%.

Câu 225. Chọn phát biểu đúng.

- Mỗi ô của bảng HTTH chỉ chứa một nguyên tố.
- Các nguyên tố được sắp xếp theo thứ tự KLNT tăng dần.
- Các đồng vị của cùng một nguyên tố nằm trong cùng 1 ô của bảng HTTH.
- Các nguyên tố trong cùng một hàng (chu kì) có tính chất tương tự.

- A. Chỉ có 3 đúng. B. 1,2,3, 4 đều đúng. C. Chỉ có 1, 2 đúng. D. Chỉ có 3, 4 đúng.

Câu 226. Tên gọi đúng của NaClO là:

- A. Natriclorua. B. Natriclorat. C. Natrihipoclorơ. D. Natrihipoclorit.

Câu 227. Có cốc đựng dd không màu NaI. Thêm vào cốc vài giọt hồ tinh bột, sau đó thêm 1 ít dd Brom. Hiện tượng quan sát được là:

- A. DD vẫn không có màu. B. DD có màu xanh thẫm. C. DD có màu xanh nhạt. D.

DD có màu nâu.

Câu 228. Để phân biệt O₂ và O₃, người ta thường dùng:

- A. nước. B. dung dịch KI và hồ tinh bột.
C. dung dịch CuSO₄. D. dd H₂SO₄.

Câu 229. Trong phân tử CO₂ có bao nhiêu liên kết δ và liên kết π.

- A. 3δ và 1π. B. 2δ và 2π. C. 2δ và 1π. D. 1δ và 2π.

Câu 230. Để trung hoà 300 ml dd NaOH 2M cần bao nhiêu ml dd HCl 2M?

- A. 200 ml. B. 300 ml. C. 400 ml. D. 100 ml.

Câu 231. Phân tử H₂O có đặc điểm nào sau đây:

- A. Cấu trúc đường phẳng, phân cực. B. Cấu trúc góc, phân cực.
C. Cấu trúc góc, không phân cực. D. Cấu trúc đường thẳng, không phân cực.

Câu 232. Nguyên tố M có 3 electron hoá trị, biết M là thuộc chu kì 4. M là:

- A. ³³As. B. ¹³Al. C. ²¹Sc. D. ²⁷Co.

Câu 233. Những chất nào sau đây tác dụng với HCl để điều chế Clo trong phòng thí nghiệm.

- A. NaCl, H₂SO₄. B. KMnO₄, MnO₂. C. KCl, MnO₂. D. NaCl, BaCl₂.

Câu 234. Tinh thể kim cương thuộc loại:

- A. Tinh thể nguyên tử và tinh thể phân tử. B. Tinh thể nguyên tử.
C. Tinh thể phân tử. D. Tinh thể ion.

Câu 235. Khi cho axit sunfuric vào NaCl rắn, khí sinh ra là

- A. H₂S. B. SO₂. C. HCl. D. Cl₂.

Câu 236. Nồng độ mol / lit của dung dịch HCl 3,65% (d= 1,2g/ml) là:

- A. 0,6M. B. 2M. C. 1,8M. D. 1,2M.

Câu 237. Sản phẩm tạo thành khi điện phân dung dịch NaCl loãng nguội, có màng ngăn là:

- A. NaOH, H₂. B. NaClO₃, H₂; Cl₂. C. NaClO, H₂. D. NaOH, Cl₂, H₂.

Câu 260. Những chất nào sau đây tác dụng với HCl để điều chế Clo trong phòng thí nghiệm.

- A. $\text{KMnO}_4, \text{MnO}_2$ B. KCl, MnO_2 C. $\text{NaCl}, \text{BaCl}_2$ D. $\text{NaCl}, \text{H}_2\text{SO}_4$.

Câu 261. ở nhiệt độ thường, Nitơ phản ứng được với:

- A. Li. B. F_2 . C. Al. D. Cl_2 .

Câu 262. Axit nào có tính Oxh mạnh nhất?

- A. HClO_2 . B. HClO_4 . C. HClO . D. HClO_3 .

Câu 263. để hờ lọ dung dịch H_2S lâu ngày trong không khí thấy có hiện tượng.

- A. vẩn đục vàng. B. vẩn đục đen. C. kết tủa trắng. D. không hiện tượng.

Câu 264. Muối thu được khi cho Fe tác dụng với dung dịch axit HCl là:

- A. FeCl_2 và FeCl_3 . B. FeCl_2 . C. FeCl_3 . D. FeCl .

Câu 265. Trong các chất sau: Fe, FeSO_4 , $\text{Fe}_2(\text{SO}_4)_3$. Chất nào chỉ có tính khử, chất nào có cả 2 tính chất oxyhoá và khử cho kết quả theo thứ tự.

- A. Fe, $\text{Fe}_2(\text{SO}_4)_3$. B. Fe, FeSO_4 . C. FeSO_4 , $\text{Fe}_2(\text{SO}_4)_3$. D. FeSO_4 , Fe.

Câu 266. Có hỗn hợp gồm 2 muối NaCl và NaBr. Khi cho dung dịch AgNO_3 vừa đủ vào hỗn hợp trên người ta thu được lượng kết tủa bằng khối lượng AgNO_3 tham gia phản ứng. Tìm phần trăm khối lượng mỗi muối trong hỗn hợp đầu.

- A. 73% và 27%. B. 60% và 40%. C. 27,84% và 72,16%. D. 72% và 28%.

Câu 267. Chọn phát biểu đúng trong các phát biểu sau:

- A. NH_3 có cấu trúc tam giác đều (lai hoá sp^2).
 B. CH_4 và MH_4^+ đều có cấu trúc tứ diện đều.
 C. CO_2 và SO_2 đều có cấu trúc thẳng (lai hoá sp)
 D. CO_2 và BeCl_2 đều có cấu trúc tam giác cân.

Câu 268. Oxit cao nhất của nguyên tố là RO_3 . Công thức của R đối với hiđrô là:

- A. RH_3 . B. RH_5 . C. RH_2 . D. RH_4 .

Câu 269. Theo quy tắc bát tử, công thức cấu tạo đúng của SO_2 là:

- A. $\text{O}=\text{S}=\text{O}$. B. $\text{O}=\text{S} \rightarrow \text{O}$. C. $\text{O}-\text{S}-\text{O}$. D. $\text{O} \leftarrow \text{S} \rightarrow \text{O}$.

Câu 270. Sục từ từ khí SO_2 đến dư vào dd Br_2 có màu vàng nhạt, hiện tượng xảy ra là

- A. xuất hiện vẩn đục màu vàng. B. màu dd đậm dần.
 C. có kết tủa màu trắng. D. dd Br_2 nhạt màu dần rồi mất màu.

Câu 271. Cho 9, 1gam hỗn hợp hai muối cacbonat trung hoà của hai kim loại kiềm ở 2 chu kỳ liên tiếp tan hoàn toàn trong dung dịch HCl vừa đủ, thu được 2, 24 lít CO_2 (đktc). Hai kim loại đó là

- A. Na, Cs. B. K, Cs. C. Na, K. D. Li, Na.

Câu 272. Dãy nào sau đây gồm các chất đều tác dụng được với oxi?

- A. C, $\text{C}_2\text{H}_5\text{OH}$, Al. B. H_2O , Cu, S. C. H_2S , Au, P. D. CO_2 , Fe, Cl_2 .

Câu 273. Điện hoá trị của Ca, F trong CaF_2 lần lượt là:

- A. +2; +1. B. 2+; 1-. C. 2+; 2-. D. 2-; 1+.

Câu 274. Tìm các hệ số trong phương trình phản ứng.

$\text{KBr} + \text{K}_2\text{Cr}_2\text{O}_7 + \text{H}_2\text{SO}_4 \rightarrow \text{Br}_2 + \text{Cr}_2(\text{SO}_4)_3 + \text{K}_2\text{SO}_4 + \text{H}_2\text{O}$ cho kết quả theo thứ tự của phương trình phản ứng.

- A. 8,2,10,4,2,2,10. B. 6,2,12,3,2,2,12. C. 6,2,10,3,2,2,10. D. 6,1,7,3,1,4,7.

Câu 275. Trong phản ứng: $\text{Fe} + 2\text{HCl} \rightarrow \text{FeCl}_2 + \text{H}_2$

Fe đóng vai trò:

- A. Vừa là chất khử, vừa là chất oxi hoá. B. Không bị khử, không bị oxi hoá.
 C. Là chất oxi hoá. D. Là chất khử.

Câu 276. Chọn đáp án đúng nhất. Liên kết hóa học trong NaCl được hình thành là do:

- A. Hạt nhân nguyên tử hút electron mạnh.
 B. $\text{Na} - 1e \rightarrow \text{Na}^+$; $\text{Cl} + 1e \rightarrow \text{Cl}^-$; $\text{Na}^+ + \text{Cl}^- \rightarrow \text{NaCl}$.
 C. Mỗi nguyên tử Na và Cl góp chung một electron.
 D. Mỗi nguyên tử đó nhường hoặc thu electron để trở thành ion trái dấu hút nhau.

Câu 277. Hợp chất khí tạo bởi nguyên tố R với hiđrô là RH, trong oxit cao nhất oxi chiếm 41,17% về khối lượng, nguyên tố R là:

- A. Br. B. I. C. Cl. D. F.

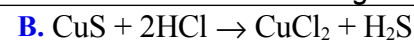
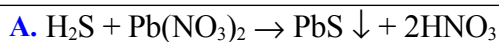
Câu 278. để phân biệt 2 khí SO_2 và CO_2 ta dùng dung dịch nào sau đây?

- A. Dd Br_2 . B. Dd $\text{Ca}(\text{OH})_2$. C. Dd HCl. D. Dd NaOH.

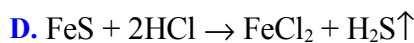
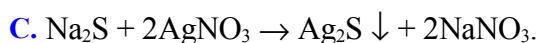
Câu 279. Ion M^{3+} có cấu hình electron ngoài cùng là $3d^2$, cấu hình electron của nguyên tử M là:

- A. $[\text{Ar}]3d^5$;
 B. $[\text{Kr}]3d^34s^2$. C. $[\text{Ar}]3d^34s^2$;
 D. $[\text{Ar}]3d^54s^2$;

Câu 280. Phản ứng nào sau đây không xảy ra?



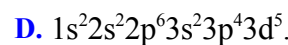
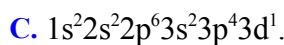
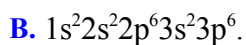
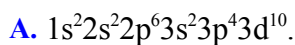
↑.



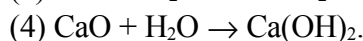
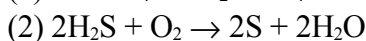
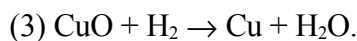
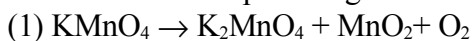
Câu 281. Phản ứng của dung dịch HCl với chất nào trong các chất sau đây là phản ứng oxihoa -khử?



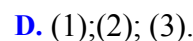
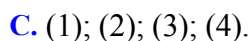
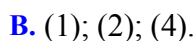
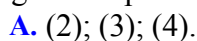
Câu 282. Cho nguyên tố X có cấu hình electron lớp ngoài cùng của nguyên tử là $4s^1$. Cấu hình electron của ion X^+ là:



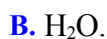
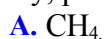
Câu 283. Cho các phản ứng sau:



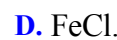
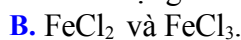
Dãy gồm các phản ứng oxi hoá - khử là:



Câu 284. Biết độ âm điện của H; O; C; N; Na; Cl lần lượt là: 2,20; 3,44; 2,55; 3,04; 0,93; 3, 16. Trong các hợp chất sau đây, phân tử của hợp chất nào có liên kết ion;



Câu 285. Muối thu được khi cho Fe tác dụng với dung dịch axit HCl là:



Câu 286. Trong các mệnh đề sau, mệnh đề nào sai?

A. Các nguyên tố d và f còn được gọi là các nguyên tố kim loại chuyển tiếp.

B. Nhóm B gồm cả các nguyên tố thuộc chu kì nhỏ và chu kì lớn.

C. Bảng tuần hoàn gồm 7 chu kì và 8 nhóm.

D. Nhóm A chỉ gồm các nguyên tố thuộc chu kì lớn.

Câu 287. Liên kết hoá học trong phân tử Cl_2 là:

A. Liên kết cho - nhận.

B. Liên kết cộng hoá trị phân cực.

C. Liên kết ion.

D. Liên kết cộng hoá trị không phân cực.

Câu 288. A, B là 2 nguyên tố thuộc cùng nhóm A và ở 2 chu kì kế tiếp trong bảng tuần hoàn. Số đơn vị điện tích hạt nhân của A và B chênh lệch nhau là:

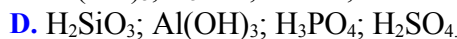
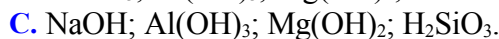
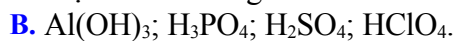
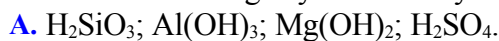
A. 8.

B. 10.

C. 6.

D. 12.

Câu 289. Các chất trong dãy nào sau đây được xếp theo thứ tự tính axit tăng dần?



Câu 290. Những ứng dụng nào sau đây không phải của KClO_3 ?

A. Sản xuất diêm.

B. Chế tạo thuốc nổ, sản xuất pháo hoa.

C. Điều chế O_2 trong phòng thí nghiệm.

D. Tiệt trùng nước hồ bơi.

Câu 291. Cho phản ứng hóa học sau: $\text{H}_2\text{O}_2 + 2\text{KI} \rightarrow \text{I}_2 + 2\text{KOH}$.

Câu nào diễn tả đúng nhất tính chất của các chất?

A. KI là chất OXH.

B. H_2O_2 là chất OXH.

C. H_2O_2 là chất khử.

D. H_2O_2 vừa là chất OXH vừa là chất khử.

Câu 292. Có 4 bình không nhãn, mỗi bình chứa một trong các dung dịch sau: natri clorua, natri nitrat, bari clorua, bari nitrat. Để phân biệt các dung dịch trên, ta có thể dùng lần lượt hoá chất nào trong các hoá chất sau.

A. Quỳ tím, dung dịch AgNO_3 .

B. Dung dịch AgNO_3 , dung dịch H_2SO_4 .

C. Dung dịch Na_2CO_3 , dung dịch HNO_3 .

D. Dung dịch Na_2CO_3 , dung dịch H_2SO_4 .

Câu 293. Để điều chế 6, 72 lít O_2 (đktc) trong PTN, cần dùng một lượng KClO_3 là:

A. 24,5 g.

B. 36,75 g.

C. 73,5 g.

D. 12,5 g.

Câu 294. để trung hoà 300 ml dd NaOH 2M cần bao nhiêu ml dd HCl 2M?

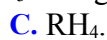
A. 400 ml.

B. 300 ml.

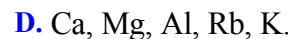
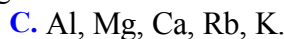
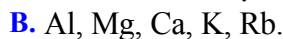
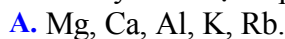
C. 200 ml.

D. 100 ml.

Câu 295. Nguyên tố R có công thức oxit cao nhất là R_2O_3 . Công thức hợp chất khí của R với hiđrô là:



Câu 296. Dãy kim loại xếp theo chiều tính kim loại tăng dần:



Câu 297. Cho hỗn hợp X gồm Cu và Al tác dụng với dung dịch HCl dư thu được 10, 08 lít khí (đktc). Khối lượng muối tạo thành là:

A. 40,05 gam.

B. 19,8 gam.

C. 26,7 gam.

D. 4,16 gam.

Câu 298. Lọ đựng chất khí nào sau đây có màu vàng lục.

A. Hơi brom.

B. Khí Clo.

C. Khí nitơ.

D. Khí Flo.

Câu 299. Nhận định nào sau đây không đúng về iot:

- A. Phản ứng được với 1 số kim loại khi có xúc tác hoặc nhiệt độ.
- B. Số oxi hoá: -1 ; 0 ; $+1$; $+3$; $+5$; $+7$.
- C. ở đk thường, là chất rắn, màu tím đen.
- D. Iot tan nhiều trong nước.

Câu 300. Cation M^{3+} có 10 electron. Cấu hình electron của nguyên tố M là:

- A. $1s^2 2s^2 2p^6 3s^2 3p^5$.
- B. $1s^2 2s^2 2p^6 3s^2 3p^1$.
- C. $1s^2 2s^2 2p^6 3s^2 3p^6 4s^2$.
- D. $1s^2 2s^2 2p^3$.

Câu 301. Phát biểu nào sau đây sai? Trong một chu kì, đi từ trái sang phải theo chiều tăng của điện tích hạt nhân.

- A. Số electron lớp ngoài cùng tăng dần từ 1 đến 8.
- B. Oxit và hidroxit có tính bazơ giảm dần, tính axit tăng dần.
- C. Hoá trị cao nhất đối với hiđro tăng dần từ 1 đến 4.
- D. Tính kim loại giảm dần, tính phi kim tăng dần.

Câu 302. Cho phản ứng: $3Fe + 2O_2 \rightarrow Fe_3O_4$. Trong phản ứng trên Fe đóng vai trò:

- A. Là chất khử.
- B. Không là chất khử cũng không là chất oxi hoá.
- C. Là chất oxi hoá.
- D. Vừa là chất khử, vừa là chất oxi hoá.

Câu 303. Khối lượng NaOH cần dùng để trung hòa hết 200ml dung dịch HCl 1M là

- A. 4 gam.
- B. 40 gam.
- C. 80gam.
- D. 8 gam.

Câu 304. Ion nào có tính kh? m?nh nh?t?

- A. Cl^- .
- B. Br^- .
- C. F^- .
- D. I^- .

Câu 305. Nhúng quỳ tím vào dd SO_2 , quỳ tím đổi màu.

- A. không đổi màu.
- B. hồng.
- C. mất màu.
- D. xanh.

Câu 306. Oxit cao nhất của nguyên tố R là R_2O_5 , trong hợp chất với hiđro thì H chiếm 17,65% về khối lượng. Nguyên tố R là:

- A. S.
- B. P.
- C. N.
- D. As.

Câu 307. Trong phản ứng: $3NO_2 + H_2O \rightarrow 2HNO_3 + NO$.

NO_2 đóng vai trò.

- A. Không là chất oxi hoá và cũng không là chất khử.
- B. Là chất oxi hoá, nhưng cũng đồng thời là chất khử.
- C. Là chất khử.
- D. Là chất oxi hoá.

Câu 308. Lọ đựng chất khí nào sau đây có màu vàng lục.

- A. Khí Clo.
- B. Hơi brom.
- C. Khí nitơ.
- D. Khí Flo.

Câu 309. Nguyên tố R có công thức oxit cao nhất là RO_3 . Nguyên tố R thuộc nhóm:

- A. IV A.
- B. VI A.
- C. III A.
- D. VA.

Câu 310. Hòa tan 12, 8g hỗn hợp gồm Fe, FeO bằng dung dịch HCl 0, 1M vừa đủ thu được 2, 24l khí(ĐKC). Thể tích dung dịch HCl đã dùng là:

- A. 14,2 lit.
- B. 4,2 lit.
- C. 2 lit.
- D. 4 lit.

Câu 311. Tính chất hoá học cơ bản của các nguyên tố thuộc nhóm halogen là:

- A. Tính oxi hoá mạnh.
- B. Tính nhường electron.
- C. Tính khử.
- D. Cả tính oxi hoá, tính khử.

Câu 312. Độ âm điện của một nguyên tố đặc trưng cho:

- A. Khả năng nhường proton của nguyên tử đó cho nguyên tử khác.
- B. Khả năng nhường electron của nguyên tử đó cho nguyên tử khác.
- C. Khả năng hút electron của nguyên tử đó khi hình thành liên kết hoá học.
- D. Khả năng tham gia phản ứng mạnh hay yếu của nguyên tử đó.

Câu 313. Trong phản ứng hoá học sau: $SO_2 + Br_2 + 2H_2O \rightarrow H_2SO_4 + 2HBr$.

Brom đóng vai trò:

- A. Chất oxi hoá.
- B. Chất khử.
- C. Không là chất oxi hoá, không là chất khử.
- D. Vừa là chất oxi hoá, vừa là chất khử.

Câu 314. Cho PTPƯ: $SO_2 + 2H_2S \rightarrow 3S + 2H_2O$, vai trò của SO_2 trong PT này là:

- A. Không là chất OXH, không là chất khử.
- B. Chất OXH.
- C. Vừa là chất OXH, vừa là chất khử.
- D. Chất khử.

Câu 315. Số oxi hoá của Clo trong các hợp chất: $NaClO_3$; Cl_2O ; $NaCl$ lần lượt là:

- A. $+5$; $+2$; $+1$.
- B. $+6$; $+2$; -1 .
- C. $+5$; $+1$; $+1$.
- D. $+5$; $+1$; -1 .

Câu 316. Kim loại nào sau đây khi tác dụng với Cl_2 và dung dịch HCl cho cùng một muối:

- A. Au.
- B. Zn.
- C. Fe.
- D. Cu.

Câu 317. Tên gọi đúng của NaClO là:

- A. Natriclorua. B. Natrihipoclorit. C. Natrihipoclorơ. D. Natriclorat.

Câu 318. Cộng hóa trị của Nitơ trong NH₃ là:

- A. 1. B. 4. C. 2. D. 3.

Câu 319. Kết luận nào sau đây không đúng với flo?

- A. F₂ oxihóa được tất cả các kim loại. B. F₂ cháy trong hơi nước tạo HF và O₂.
C. F₂ là khí có màu lục nhạt rất độc. D. F₂ có tính oxihóa mạnh nhất trong các phi kim.

Câu 320. Cho Cl₂ tác dụng với dung dịch NaOH đun nóng sản phẩm là:

- A. NaCl, H₂O. B. NaCl, NaClO, Cl₂, H₂O. C. NaCl, NaClO₃, H₂O. D. NaCl,

NaClO, H₂O.

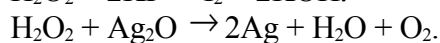
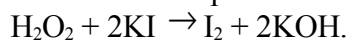
Câu 321. Viết công thức của hợp chất M₂X₃ biết M, X thuộc 3 chu kỳ đầu của bảng HTTH và tổng số electron trong M₂X₃ là 50.

- A. B₂S₃. B. Al₂S₃ C. B₂O₃ D. Al₂O₃

Câu 322. Tên gọi của KClO₃, KCl, KClO, KClO₄, lần lượt là:

- A. Kali clorat, kali clorua, kali hipoclorit, kali peclorat.
B. Kali clorit, kali clorat, kali clorơ, kali cloric.
C. Kali peclorat, kali clorua, kali clorit, kali clorat.
D. Kali clorua, kali clorat, kali clorit, kali peclorat.

Câu 323. Hidropeoxit có thể tham gia những phản ứng hóa học:



Vai trò của H₂O₂ trong 2 phản ứng trên là:

- A. H₂O₂ không có tính khử, không có tính OXH. B. H₂O₂ vừa có tính khử vừa có tính OXH.
C. H₂O₂ chỉ có tính OXH. D. H₂O₂ chỉ có tính khử.

Câu 324. Cho biết độ âm điện của O (3,44); N(3,04), C(2,55) trong các phân tử sau đây: N₂, CH₄, H₂O, NH₃ phân tử có liên kết cộng hoá trị phân cực mạnh nhất là:

- A. CH₄. B. H₂O. C. NH₃. D. N₂.

Câu 325. Biết O có số hiệu nguyên tử bằng 8. Ion O²⁻ có cấu hình electron:

- A. 1s²2s²2p⁴3s². B. 1s²2s²2p⁶. C. 1s²2s²2p⁶3s². D. 1s²2s²2p⁴.

Câu 326. CaOCl₂ thuộc loại muối nào trong các loại muối sau.

- A. Muối bazơ. B. Muối hỗn tạp. C. Muối axit. D. Muối kép.

Câu 327. Cho phản ứng: 2NH₃ + 3Cl₂ → N₂ + 6HCl. Trong đó Cl₂ đóng vai trò.

- A. Không phải là chất khử, không là chất oxi hoá. B. Chất oxi hoá.
C. Chất khử. D. Vừa là chất oxi hoá vừa là chất khử.

Câu 328. Cl₂ không phản ứng được với dãy chất nào sau đây:

- A. NaOH, Ca(OH)₂. B. N₂, O₂. C. Fe, Cu, Al. D. P.

Câu 329. Hoà tan 2, 24 lít khí hidroclorua vào 46, 35 gam nước thu được dung dịch HCl có nồng độ là:

- A. 6,7%. B. 67%. C. 7,3%. D. 73%.

Câu 330. Dung dịch axit nào sau đây không thể chứa trong lọ thủy tinh.

- A. HCl. B. HF. C. H₂SO₄. D. HNO₃.

Câu 331. Nồng độ mol /lit của dung dịch HBr 16,2%(d= 1,02g/ml).

- A. 0,204. B. 1,65. C. 2,04. D. 4,53.

Câu 332. Phản ứng giữa Clo và H₂ có thể xảy ra ở điều kiện.

- A. ánh sáng mặt trời. B. ánh sáng của Magie cháy.
C. Không cần điều kiện. D. Nhiệt độ thường và bóng tối.

Câu 333. Cho sơ đồ phản ứng Cu + H₂SO_{4đ} → CuSO₄ + SO₂ + H₂O. Hệ số cân bằng của H₂SO₄ là:

- A. 6. B. 5. C. 2. D. 4.

Câu 334. Clo đóng vai trò gì trong phản ứng sau: 2NaOH + Cl₂? NaCl + NaClO + H₂O.

- A. Vừa là chất oxi hoá, vừa là chất khử. B. Chỉ là chất oxi hoá.
C. Chỉ là chất khử. D. Không là chất oxi hoá, không là chất khử.

Câu 335. Vai trò của Clo trong phản ứng: Cl₂ + HOH ↔ HCl + HClO .

- A. Là chất oxi hóa. B. Là chất khử mạnh.
C. Không là chất oxi hóa, không là chất khử. D. Vừa là chất oxi hóa, vừa là chất khử.

Câu 336. Các nguyên tố ⁹F; ¹⁷Cl; ³⁵Br; ⁵³I được sắp xếp theo chiều tính phi kim giảm dần là:

- A. Cl, F, I, Br. B. F, Cl, Br, I. C. I, Br, Cl, F. D. F, Br, Cl, I.

- Câu 337.** Cho hỗn hợp X gồm Cu và Al tác dụng với dung dịch HCl dư thu được 10,08 lít khí (đktc). Khối lượng muối tạo thành là:
A. 26,7 gam. **B.** 4,16 gam. **C.** 19,8 gam. **D.** 40,05 gam.
- Câu 338.** Nguyên tố X có cấu hình electron lớp ngoài cùng của nguyên tử là $4s^2 4p^5$. Nguyên tố X là:
A. Flo. **B.** Brom. **C.** Clo. **D.** Iot.
- Câu 339.** Hoà tan 0,9 gam một kim loại X vào dung dịch HNO_3 thu được 0,28 lít khí N_2O duy nhất (đktc). Xác định kim loại X?
A. Cu. **B.** Mg. **C.** Al. **D.** Zn.
- Câu 340.** So sánh độ mạnh của các axit H_3PO_4 , H_3AsO_4 , H_2SO_4 . Biết P, As thuộc nhóm Va; S thuộc nhóm VIA; P, S thuộc chu kỳ 3; As thuộc chu kỳ 4.
 Sắp xếp các axit trên theo độ mạnh tăng dần.
A. $H_3PO_4 < H_3AsO_4 < H_2SO_4$ **B.** $H_2SO_4 < H_3AsO_4 < H_3PO_4$
C. $H_3AsO_4 < H_3PO_4 < H_2SO_4$ **D.** $H_3PO_4 < H_2SO_4 < H_3AsO_4$
- Câu 341.** Cho biết nguyên tố X có cấu hình e^- phân lớp ngoài cùng là $4p^1$. Vậy số hiệu nguyên tử của X là:
A. 27. **B.** 13. **C.** 31. **D.** 37.
- Câu 342.** Cho phản ứng: $2NH_3 + 3Cl_2 \rightarrow N_2 + 6HCl$. Trong đó Cl_2 đóng vai trò.
A. Chất oxi hoá. **B.** Không phải là chất khử, không là chất oxi hoá.
C. Vừa là chất oxi hoá vừa là chất khử. **D.** Chất khử.
- Câu 343.** Những kết luận nào sau đây đúng? Trong một nhóm A theo chiều tăng của điện tích hạt nhân thì:
A. Độ âm điện giảm.
B. Số electron lớp ngoài cùng giảm dần.
C. Tính kim loại giảm, tính phi kim tăng.
D. Tính bazơ của các oxit và hidrôxit tương ứng tăng dần, đồng thời tính axit cũng tăng dần.
- Câu 344.** Điện hoá trị của Na; Mg; Al trong NaCl; MgO; Al_2O_3 lần lượt là:
A. 1+; 2+; 3+. **B.** 2+; 3+; 4+. **C.** 1+; 3+; 4+. **D.** 1-; 2-; 3+.
- Câu 345.** Liên kết trong phân tử N_2 gồm:
A. 1 liên kết ba. **B.** 1 liên kết đơn, 1 liên kết ba.
C. 2 liên kết đơn. **D.** 1 liên kết đôi.
- Câu 346.** Để phân biệt hai bình khí HCl và Cl_2 riêng biệt, có thể dùng thuốc thử nào sau đây?
A. Giấy tím dung dịch phenolphthalêin. **B.** Giấy tím dung dịch NaOH.
C. Giấy quỳ tím ẩm. **D.** Giấy tím hồ tinh bột và dung dịch KI.
- Câu 347.** Sục khí clo vào dung dịch NaBr và NaI đến phản ứng hoàn toàn thì thu được 1,17g NaCl. Số mol hỗn hợp NaBr và NaI có trong dung dịch ban đầu là bao nhiêu (trong các số cho dưới đây)?
A. 0,01 mol. **B.** 0,02 mol. **C.** 0,03 mol. **D.** 0,04 mol.
- Câu 348.** Hidroxit cao nhất của một nguyên tố R có dạng HRO_4 . R cho hợp chất khí với hydro chứa 2,74% hydro theo khối lượng. R là nguyên tố nào sau đây?
A. Iot. **B.** Brom. **C.** Photpho. **D.** Clo.
- Câu 349.** Hidrôpeoxit thể hiện những tính chất nào dưới đây?
A. Tính khử. **B.** Tính khử và tính OXH.
C. Không có tính khử và tính OXH. **D.** Tính OXH.
- Câu 350.** Phát biểu nào sau đây sai?
A. Trong một nhóm A, theo chiều tăng dần của điện tích hạt nhân độ âm điện của các nguyên tố tăng dần.
B. Độ âm điện càng lớn thì phi kim của các nguyên tố càng mạnh.
C. Độ âm điện càng nhỏ thì tính kim loại của các nguyên tố càng mạnh.
D. Trong một chu kỳ, từ trái sang phải, độ âm điện của các nguyên tố tăng dần.
- Câu 351.** Nguyên tử X có cấu hình electron của phân lớp có năng lượng cao nhất là $3p^4$. Hãy chỉ ra câu sai khi nói về nguyên tử X:
A. Lớp ngoài cùng của nguyên tử X có 6 electron. **B.** Trong bảng tuần hoàn, X nằm ở nhóm IVA.
C. Hạt nhân nguyên tử X có 16 proton. **D.** Trong bảng tuần hoàn, X nằm ở chu kỳ 3.
- Câu 352.** Mệnh đề nào sau đây đúng?
A. Các nguyên tố trong cùng nhóm có tính chất hoá học giống nhau.
B. Nguyên tử của các nguyên tố trong cùng chu kỳ bao giờ cũng có số electron thuộc lớp ngoài cùng bằng nhau.
C. Trong một nhóm, nguyên tử của hai nguyên tố thuộc hai chu kỳ liên tiếp hơn kém nhau một lớp electron.
D. Số thứ tự của nhóm bằng số electron ở lớp ngoài cùng của nguyên tử nguyên tố trong nhóm đó.
- Câu 353.** Tính chất hoá học của các nguyên tố được xác định trước tiên bằng:

- A. Vị trí của nguyên tố trong bảng tuần hoàn. B. Điện tích hạt nhân nguyên tử.
C. Khối lượng nguyên tử. D. Cấu hình của lớp electron hoá trị.
- Câu 354.** Nguyên tố X thuộc nhóm VA, công thức hợp chất khí với hiđro của X là:
A. XH_3 . B. HX . C. XH_5 . D. XH_2 .
- Câu 355.** Kim loại nào sau đây không tác dụng được với axit H_2SO_4 đặc, nguội?
A. Mg. B. Cu. C. Al, Fe. D. Ag.
- Câu 356.** Những chất nào sau đây được dùng để điều chế Clo trong phòng thí nghiệm.
A. NaCl, BaCl_2 . B. KCl, MnO_2 . C. KMnO_4 , MnO_2 . D. NaCl, H_2SO_4 .
- Câu 357.** Phân tử nào dưới đây có liên kết cộng hoá trị phân cực?
A. HCl. B. Cl_2 . C. KCl. D. H_2 .
- Câu 358.** Trong các nguyên tố dưới đây, nguyên tử của nguyên tố nào có xu hướng kết hợp với electron mạnh nhất?
A. Bo. B. Cacbon. C. Photpho. D. Clo.
- Câu 359.** Khi cho ozon tác dụng lên giấy có tẩm dung dịch KI và tinh bột thấy xuất hiện màu xanh. Hiện tượng này là do:
A. Sự oxi hoá iotua. B. Sự oxi hoá kali. C. Sự oxi hoá ozon. D. Sự oxi hoá tinh bột.
- Câu 360.** Cho các tính chất và đặc điểm cấu tạo nguyên tử của các nguyên tố hoá học:
a. Hoá trị cao nhất đối với oxi b. Khối lượng nguyên tử.
c. Số electron thuộc lớp ngoài cùng d. Số lớp electron.
e. Tính phi kim g. Bán kính nguyên tử.
h. Số proton trong hạt nhân nguyên tử i. Tính kim loại.
Những tính chất biến đổi tuần hoàn theo chiều tăng điện tích hạt nhân ngử là:
A. a, b, c, d. B. a, c, e, i. C. e, g, h, i. D. g, h, i, e.
- Câu 361.** Tổng hệ số trong phản ứng sau: $\text{Zn} + \text{HNO}_3 \rightarrow \text{Zn}(\text{NO}_3)_2 + \text{NH}_4\text{NO}_3 + \text{H}_2\text{O}$ là:
A. 22. B. 26. C. 28. D. 24.
- Câu 362.** Viết công thức của hợp chất ion M^{2+} và X^- biết M, X thuộc 4 chu kỳ đầu của bảng HTTH. M thuộc nhóm A và số electron của nguyên tử M bằng hai lần số electron của Anion.
A. CaCl_2 . B. BeH_2 . C. MgF_2 ; D. CaF_2
- Câu 363.** Phản ứng nào sau đây không thể hiện tính OXH mạnh của H_2SO_4 đặc?
A. Pư với Cu. B. Pư với FeO. C. Pư với H_2S . D. Pư với CaCO_3 .
- Câu 364.** Nguyên tố M có 7 electron hoá trị, biết M là thuộc chu kì 4. M là:
A. Cả ${}_{35}\text{Br}$ và ${}_{25}\text{Mn}$ đều đúng. B. ${}_{27}\text{Co}$.
C. ${}_{35}\text{Br}$. D. ${}_{25}\text{Mn}$.
- Câu 365.** Phản ứng chứng minh tính khử của HCl là:
A. $\text{MnO}_2 + 4\text{HCl} \rightarrow \text{MnCl}_2 + \text{Cl}_2 + 2\text{H}_2\text{O}$. B. $\text{Fe}(\text{OH})_3 + 3\text{HCl} \rightarrow \text{FeCl}_3 + 3\text{H}_2\text{O}$.
C. $\text{CaCO}_3 + 2\text{HCl} \rightarrow \text{CaCl}_2 + \text{CO}_2 + \text{H}_2\text{O}$. D. $\text{CuO} + 2\text{HCl} \rightarrow \text{CuCl}_2 + \text{H}_2\text{O}$.
- Câu 366.** Để phân biệt dung dịch HCl và dung dịch NaCl cần dùng.
A. Dung dịch AgCl. B. Dung dịch AgNO_3 . C. Dung dịch KOH. D. Quì tím.
- Câu 367.** Nung 24, 5gam muối KClO_x đến khối lượng không đổi thu được chất rắn có khối lượng là 14, 9gam. Xác định công thức của muối KClO_x . Nếu nung 24, 5gam muối KClO_x trên ở nhiệt độ thấp hơn ta thu được hai muối mới có tổng khối lượng là 24, 5gam. Tính khối lượng mỗi muối ấy.
A. KClO ; 20,25gam KClO_3 và 4,25gam KCl. B. KClO_2 ; 20,5gam KClO_3 và 4 gam KCl.
C. KClO_3 ; 20,775gam KClO_4 và 3,725gam KCl. D. KClO_3 ; 21,125gam KClO_4 và 3,375gam KCl.
- Câu 368.** Trong nhóm Oxi, theo chiều điện tích hạt nhân tăng dần thì sự biến đổi tính chất nào sau đây là đúng?
A. Tính bền của hợp chất hiđrô tăng dần. B. Tính axit của hợp chất hiđroxit tăng dần.
C. Độ âm điện của nguyên tử giảm dần. D. Tính OXH tăng dần, tính khử giảm dần.
- Câu 369.** lưu huỳnh có thể tồn tại những mức oxi hoá nào?
A. +1, +2, +4, +6. B. 0, +2, +4, +6. C. -2, 0, +4, +6. D. -1, 0, +4, +6.
- Câu 370.** Cho các nguyên tố và số hiệu nguyên tử ${}_{13}\text{Al}$; ${}_{11}\text{Na}$; ${}_{12}\text{Mg}$; ${}_{16}\text{S}$. Dãy thứ tự đúng về bán kính nguyên tử tăng dần là:
A. $\text{Al} < \text{Na} < \text{Mg} < \text{S}$. B. $\text{Na} < \text{Al} < \text{S} < \text{Mg}$. C. $\text{S} < \text{Mg} < \text{Na} < \text{Al}$. D. $\text{S} < \text{Al} < \text{Mg} < \text{Na}$.
- Câu 371.** Dung dịch nào sau đây không phản ứng với dung dịch AgNO_3 .
A. NaCl. B. NaF. C. NaBr. D. NaI.
- Câu 372.** Cộng hoá trị của O trong H_2O là:
A. 2. B. 1. C. 3. D. 4.
- Câu 373.** SO_3 tác dụng với H_2O cho sản phẩm là
A. H_2S . B. H_2SO_4 . C. H_2SO_3 . D. không tác dụng.

Câu 374. Chất nào sau đây không tác dụng với dd H_2SO_4 đặc, nguội?

- A. C. B. Cu. C. Fe. D. CaCO_3 .

Câu 375. Hoà tan 2, 24lít khí hydroclorua vào 46, 35 gam nước thu được dung dịch HCl có nồng độ là:

- A. 73%. B. 67%. C. 7,3%. D. 6,7%.

Câu 376. Số oxi hóa của Clơ trong hợp chất HClO_3 là:

- A. +1. B. +5. C. -2. D. +6.

Câu 377. Cấu hình electron lớp ngoài cùng của các nguyên tố nhóm halogen là:

- A. ns^2np^6 . B. ns^2np^3 . C. ns^2np^4 . D. ns^2np^5 .

Câu 378. Dãy kim loại xếp theo chiều tính kim loại tăng dần:

- A. Ca, Mg, Al, Rb, K. B. Al, Mg, Ca, Rb, K. C. Al, Mg, Ca, K, Rb. D. Mg, Ca, Al, K, Rb.

Câu 379. Dung dịch axit nào sau đây không thể chứa trong lọ thủy tinh.

- A. HCl. B. HNO_3 . C. H_2SO_4 . D. HF.

Câu 380. Thuốc thử để nhận biết HCl và muối clorua là:

- A. Dung dịch BaCl_2 . B. Dung dịch AgNO_3 . C. Dung dịch NaOH. D. Dung dịch Ba (OH) $_2$.

Câu 381. Trong ứng dụng sau, ứng dụng nào không phải của nước Gia -ven?

- A. Tiệt trùng nước. B. Tẩy uế nhà vệ sinh.
C. Tẩy trắng vải sợi. D. Tiêu diệt vi khuẩn cúm gà H_5N_1 .

Câu 382. Thuốc thử để nhận biết HCl và muối clorua là:

- A. Dung dịch Ba (OH) $_2$. B. Dung dịch AgNO_3 . C. Dung dịch BaCl_2 . D. Dung dịch NaOH.

Câu 383. Nguyên tố Ca có Z = 20. Khi Ca tham gia phản ứng tạo hợp chất ion; ion Ca^{2+} có cấu hình electron là

- A. $1s^22s^22p^63s^23p^6$. B. $1s^22s^22p^63s^23p^4s^2$. C. $1s^22s^22p^63s^23p^64s^24p^2$. D. $1s^22s^22p^63s^23p^64s^1$.

Câu 384. Cho 200 ml dd BaCl_2 1M vào dd Na_2SO_4 dư thu được bao nhiêu gam kết tủa? cho Ba= 137, S=32, O=16.

- A. 23,3 gam. B. 93,2 gam. C. 45,5 gam. D. 46,6 gam.

Câu 385. Xét phản ứng: $4\text{HCl} + \text{MnO}_2 \xrightarrow{t^o} \text{MnCl}_2 + \text{Cl}_2 + 2\text{H}_2\text{O}$.

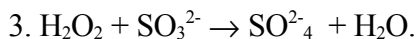
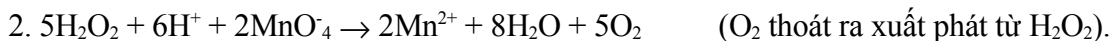
Vai trò của HCl trong phản ứng trong phản ứng là:

- A. Chất OXH. B. Chất khử và chất OXH. C. Môi trường. D. Chất khử và môi trường.

Câu 386. Cho 8, 5g một hỗn hợp gồm hai kim loại kiềm A, B thuộc hai chu kì liên tiếp vào nước thu được 3, 36 lít H_2 (đktc). Tên hai kim loại A, B.

- A. Li, Na. B. K, Rb. C. Ca, Mg. D. Na, K.

Câu 387. Cho các phản ứng.



Trong các phản ứng nào H_2O_2 đóng vai trò một chất oxy hoá hay một chất khử?

- A. 1 chất oxy hoá; 2, 3 chất khử B. 1,2,3 - H_2O_2 đều là chất oxy hoá.

- C. 1, 3 chất oxy hoá; 2 chất khử. D. 1, 2 chất oxy hoá; 3 chất khử

Câu 388. Nguyên tố R có oxit cao nhất là RO_2 . Trong hợp chất khí với hiđrô chứa 75% khối lượng R. Hợp chất với hiđrô có công thức là:

- A. CH_3 . B. NH_3 . C. CH_4 . D. SH_2 .

Câu 389. Liên kết hóa học trong phân tử H_2S là liên kết:

- A. Ion. B. Liên kết hiđrơ. C. Cộng hóa trị. D. Liên kết cho nhận.

Câu 390. Cho biết độ âm điện của O (3,44); Cl(3,16). Liên kết trong phân tử Cl_2O_7 ; Cl_2 ; O_2 là liên kết:

- A. Ion. B. Vừa liên kết ion, vừa liên kết cộng hoá trị.
C. Cộng hoá trị không cực. D. Cộng hoá trị phân cực.

Câu 391. Hoà tan 2, 24lít khí hydroclorua vào 46, 35 gam nước thu được dung dịch HCl có nồng độ là:

- A. 7,3%. B. 6,7%. C. 67%. D. 73%.

Câu 392. Hòa tan hoàn toàn 2, 24 lít khí hydroclorua vào trong 46, 35 gam nước. Nồng độ phần trăm dung dịch thu được là:

- A. 4,19%. B. 3,05%. C. 2,13%. D. 4,61%.

Câu 393. Số electron độc thân của nguyên tử S (Z = 16) là:

- A. 1. B. 2. C. 4. D. 3.

Câu 394. Cho 5, 6 gam Fe tác dụng hoàn toàn với dd HCl dư thu được bao nhiêu lít khí (đktc)? cho Fe = 56.

- A. 4,48 lit. B. 1,12 lit. C. 2,24 lit. D. 3,36 lit.

Câu 395. Hệ số của phương trình phản ứng: $\text{KMnO}_4 + \text{HCl} \rightarrow \text{KCl} + \text{MnCl}_2 + \text{Cl}_2 + \text{H}_2\text{O}$ lần lượt là:

- A. 2,16, 2, 2, 5,8. B. 2,6, 2, 2, 5,3. C. 1,16, 2, 2, 3,8. D. 2,16, 2, 1, 3,8.

Câu 396. Để phân biệt dung dịch HCl và dung dịch NaCl cần dùng.

- A. Dung dịch AgCl. B. Dung dịch KOH. C. Dung dịch AgNO₃. D. Quì tím.

Câu 397. Để tạo ion S²⁻, nguyên tử S:

- A. Nhận 2 electron. B. Nhường 2electron. C. Mất hết electron. D. Không mất electron.

Câu 398. Cho nguyên tố X có cấu hình electron lớp ngoài cùng của nguyên tử là 4s¹. Cấu hình electron của ion X⁺ là:

- A. 1s²2s²2p⁶3s²3p⁴3d⁵. B. 1s²2s²2p⁶3s²3p⁴3d¹⁰. C. 1s²2s²2p⁶3s²3p⁴3d¹. D. 1s²2s²2p⁶3s²3p⁶.

Câu 399. Nguyên tố ²⁰Ca có số electron hoá trị là:

- A. 4. B. 3. C. 2. D. 1.

Câu 400. Câu nào sau đây diễn tả đúng tính chất của lưu huỳnh?

- A. chỉ có tính oxi hoá mạnh. B. chỉ có tính khử mạnh.
C. không có tính oxi hoá, không có tính khử. D. vừa có tính oxi hoá, vừa có tính khử.

Câu 401. Trong một nguyên tử X, hiệu số 2 loại hạt (trong 3 loại hạt p, e, n) bằng 1, và tổng số hạt bằng 40. Tính A, Z của X.

- A. A = 28; Z = 13. B. A = 28; Z = 14 C. A = 27; Z = 12. D. A = 27; Z = 13

Câu 402. Người ta có thể nhận ra khí H₂S bằng tờ giấy tẩm dd Pb(NO₃)₂ là vì.

- A. phản ứng tạo kết tủa vàng. B. phản ứng tạo kết tủa nâu.
C. phản ứng tạo kết tủa xanh. D. phản ứng tạo kết tủa đen.


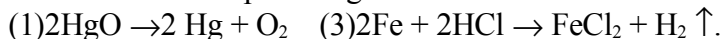
Câu 403. Thuốc thử để nhận biết H₂SO₄ và muối sunfat là

- A. dd muối bari Ba²⁺. B. chỉ có Ba(OH)₂. C. chỉ có BaCl₂. D. dd AgNO₃.

Câu 404. Thuốc thử để nhận biết HCl và muối clorua là:

- A. Dung dịch NaOH. B. Dung dịch AgNO₃. C. Dung dịch Ba(OH)₂. D. Dung dịch BaCl₂.

Câu 405. Cho các phản ứng sau:



Dãy gồm phản ứng oxi hoá-khử là:

- A. (1); (3); (4). B. (1); (3). C. (1);(2); (3). D. (1); (2); (4).

Câu 406. Đổ dung dịch chứa 1 gam HBr vào dung dịch chứa 1gam NaOH. Nhúng giấy quỳ tím vào dung dịch thu được thì giấy quỳ tím chuyển sang màu nào.

- A. Màu xanh. B. Không đổi màu. C. Không xác định được. D. Màu đỏ.

Câu 407. Kết luận nào sau đây không đúng đối với tính chất hoá học của iot?

- A. Iot vừa có tính oxihoa, vừa có tính khử.
B. Tính oxihoa của I₂ > Br₂.
C. Tính khử của I₂ > Br₂.
D. I₂ chỉ oxihoa được H₂ ở nhiệt độ cao tạo ra khí HI.

Câu 408. Electron cuối cùng của nguyên tố M điền vào phân lớp 3p³. Số electron hoá trị của M là:

- A. 5. B. 3. C. 2. D. 4.

Câu 409. Nồng độ mol /lit của dung dịch HBr 16,2%(d= 1,02g/ml).

- A. 2,04. B. 0,204. C. 4,53. D. 1,65.

Câu 410. Biết Na (z = 11), Mg(z = 12), Al(z = 13), Si(z = 14). Tính kim loại được sắp xếp theo chiều tăng dần là:

- A. Na, Mg, Al, Si. B. Mg, Al, Si, Na. C. Na, Mg, Si, Al. D. Si, Al, Mg, Na.